

16 象形圖和棒形圖

- ▶ 閱讀和製作象形圖
- ▶ 閱讀和製作棒形圖

小診室

例 4A班近視的學生共有多少人？

答案： 3 人 **✗**

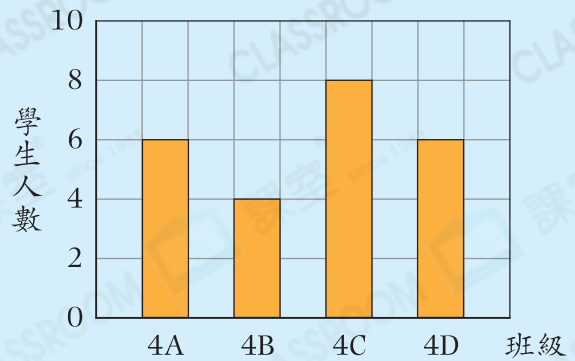
我會改

答案： 人

錯點分析

未留意每一格代表2人。

四年級各班近視的學生人數

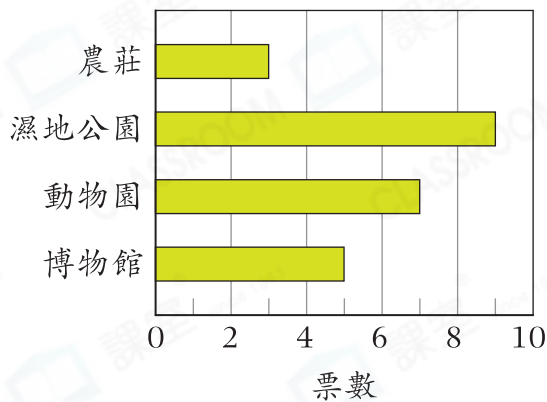


甲部 選擇題

選出正確的答案填在空格內。(12分，每題2分)

根據下圖，回答第1—3題。

3C班戶外學習地點的投票結果



1. 下列哪一個劃記可以表示動物園所得的票數？

- A. 下
- B. 正一
- C. 正T
- D. 正正

2. 對比得票最多和最少的兩個地點，相差多少票？

- A. 2
- B. 4
- C. 5
- D. 6

3. 獲得5票以上的戶外學習地點共有多少個？

- A. 1
- B. 2
- C. 3
- D. 4

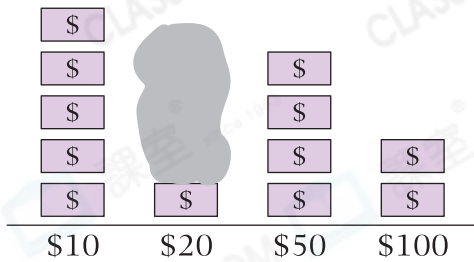
常犯錯

留意不包括得5票的地點。

根據下圖，回答第4—6題。

佳欣儲蓄的紙幣

每個 $\$$ 代表1張紙幣



4. 如果佳欣共有 \$530 儲蓄，那麼 \$20 紙幣一欄應共有 $\$$ 多少個？
- A. 2
B. 4
C. 5
D. 6

5. 面值最大的兩種紙幣的總數量是全部紙幣的幾分之幾？

- A. $\frac{1}{3}$
B. $\frac{5}{14}$
C. $\frac{2}{5}$
D. $\frac{3}{7}$

6. \$10 和 \$100 紙幣的總值跟 \$20 和 \$50 紙幣的相差多少？

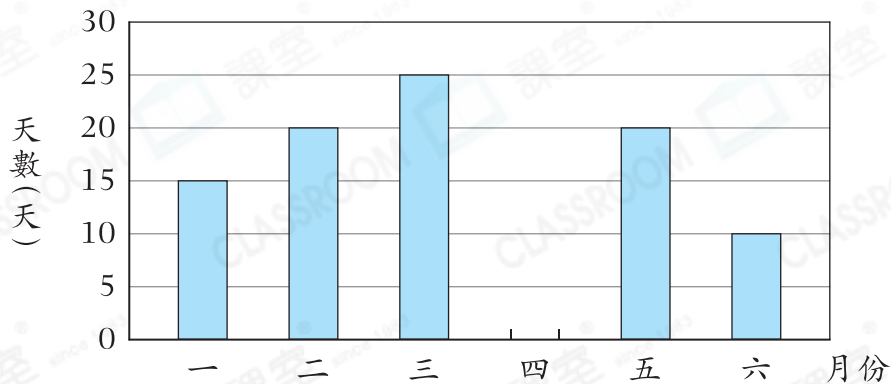
- A. \$1
B. \$10
C. \$30
D. \$50

乙部 短答及列式計算題

除特別指明外，在回答本部問題時，須列出計算步驟。(4分)

7.

張先生上半年每個月去健身房的天數



- (a) 張先生四月去健身房的天數是六月的2倍少5天。在上圖畫出代表張先生四月去健身房的天數的棒。【2分】
- (b) 張先生在一月共有多少天沒有去健身房？(只須寫出答案)【2分】

答案：_____ 天