

6 四個方向

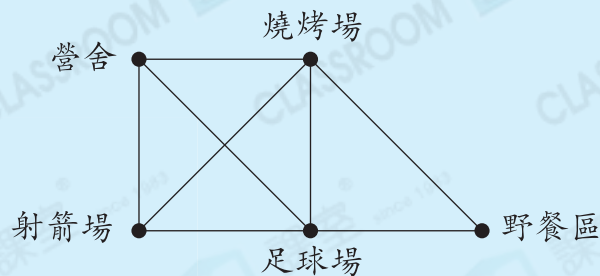


- ▶ 四個方向
- ▶ 用指南針測方向

小診室

例 右圖中，營舍在燒烤場的南方，
足球場在燒烤場的哪一方？

答案：_____方 **✗**



我會改

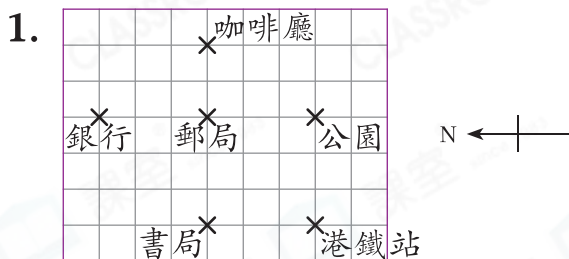
答案：_____方

錯點分析

誤以為北方一定指向上。

甲部 選擇題

選出正確的答案填在空格內。(16分，每題2分)

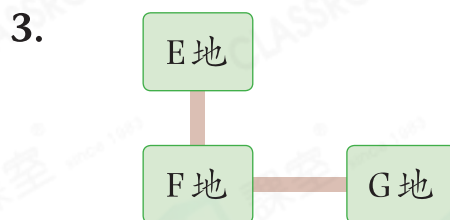


上圖中，郵局的東方是什麼地方？

- A. 咖啡廳
- B. 銀行
- C. 公園
- D. 書局

2. 承上題，港鐵站在書局的哪一方？

- A. 東
- B. 南
- C. 西
- D. 北



芝雅由G地向西出發往F地，到達F地後，她在E地的哪一方？

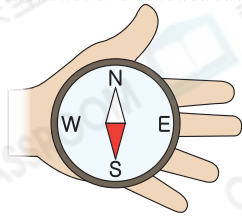
- A. 東
- B. 南
- C. 西
- D. 北

4. 太陽升起的時候，溫明面向太陽站立，他背向哪一方？

- A. 東
- B. 南
- C. 西
- D. 北

至理秘訣
面向的方向和背向的方向剛好相反。

5.



國明把指南針平放在手掌上，指南針着色的指針指向北方，國明的中指指向哪一方？


- A. 東
B. 南
C. 西
D. 北

常犯錯
留意不要被指南針上的字母誤導。

6. 爸爸正駕車向南方前進，到達分岔路口時，他左轉一個直角後，向哪一個方向行駛？

- A. 東
B. 南
C. 西
D. 北

7.



上圖中，博文正沿着道路向西方走，到達分岔路口時，欣瑤正從他的右面走來。欣瑤正向哪一個方向行走？

- A. 東
B. 南
C. 西
D. 北



8. 下午3時正，時針指向西方，3小時後，時針將指向哪一方？

- A. 東
B. 南
C. 西
D. 北

乙部 短答及列式計算題

除特別指明外，在回答本部問題時，須列出計算步驟。(4分)

9. 右圖是農莊的平面圖。

(a) 澤文在詢問處的西方，他在地圖中哪一個地方？(只須寫出答案)【2分】

答案：_____

(b) 澤文想從餐廳去出口，他應往哪一個方向走？(只須寫出答案)【2分】

答案：_____方

