

# 7 八個方向



八個方向

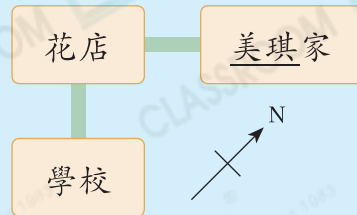
## 小診室

例 學校在花店的哪一方？

答案：西北方

## 我會改

答案：\_\_\_\_\_方



## 錯點分析

未將方向標示移至圖中適當的位置。

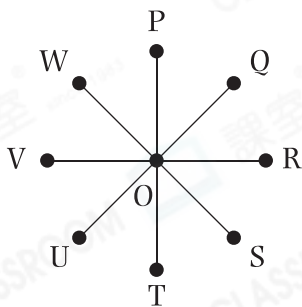
## 甲部 選擇題

選出正確的答案填在空格內。(20分，每題2分)

1. 紫妍的右面是西北方，她面向哪一方？

- A. 東
- B. 南
- C. 西南
- D. 東南

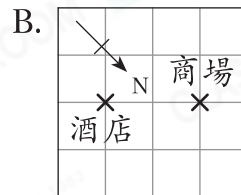
2.

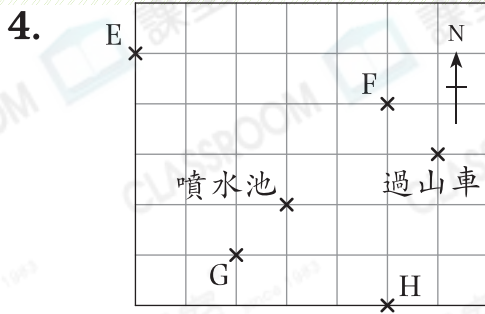


如果W在S的東北方，Q在U的哪一方？

- A. 東南
- B. 西南
- C. 東北
- D. 西北

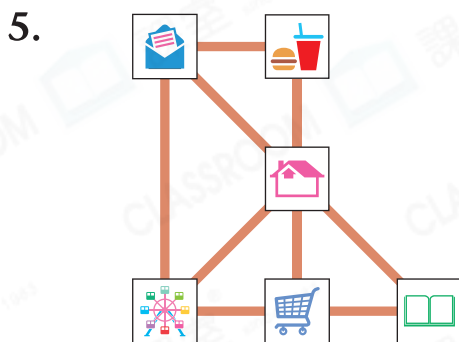
3. 如果酒店在商場的東南方，下列哪一個地圖是正確的？









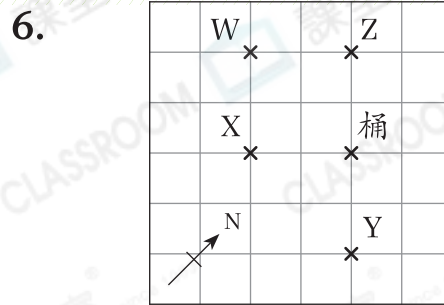
紫寧和朋友一起去遊樂場，目的地是過山車。行了一段時間後，他們發現噴水池在他們的西南方。他們當時是在地圖中的哪一個位置？

- A. E  
B. F  
C. G  
D. H



上圖是倩明家附近建築的地圖。如果  是在  的西南方，那麼  的東方是什麼地方？

- A.   
B.   
C.   
D. 

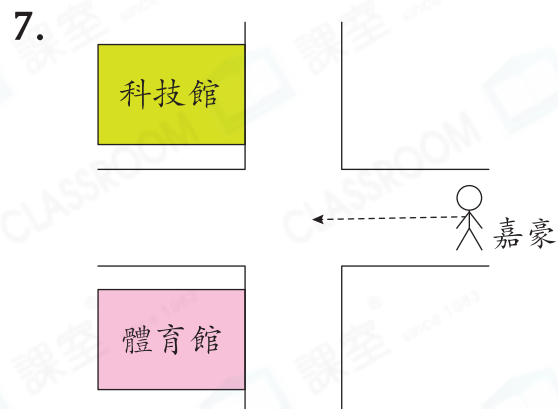


哥哥分別從W、X、Y和Z四個位置擲豆袋，目標是擲到桶內，結果向東南方擲出的豆袋擲到了桶內，哥哥從哪一個位置擲出的豆袋擲到了桶內？

- A. W  
B. X  
C. Y  
D. Z

**至醒秘訣**

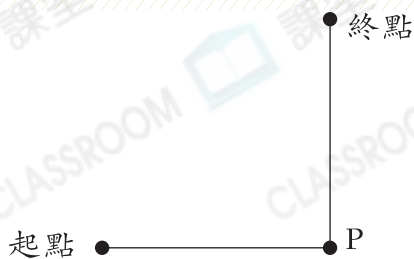
分別找出從四個位置擲出的方向。



上圖中，嘉豪正沿路向東北方走，當他到達分岔路口時，他應向什麼方向走才可以到達科技館？

- A. 東南  
B. 東北  
C. 西北  
D. 西南

8.



定向越野比賽中，浩博從起點向東南方跑300m到達P點，再轉向東北方跑300m到達終點。如果他想以最短的路線返回起點，他應向哪個方向走？

- A. 東
- B. 西
- C. 西北
- D. 西南



9. 醫院在雅雯家南方的3km處，曉林家在醫院東方的3km處。雅雯家在曉林家的哪一方？

- A. 東
- B. 西
- C. 西北
- D. 東南



10. 茜薇面向東北方，她依順時針轉了3個直角後，她現在面向哪一方？

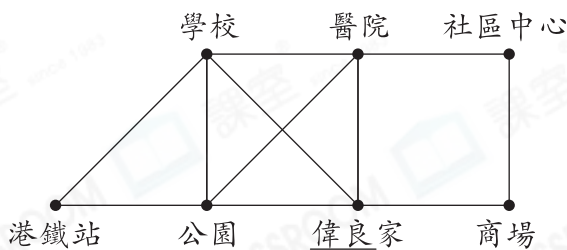
- A. 東南
- B. 東北
- C. 西南
- D. 西北



**乙部 短答及列式計算題**

除特別指明外，在回答本部問題時，須列出計算步驟。(14分)

11. 右圖是偉良家附近建築的平面圖。公園在商場的南方。



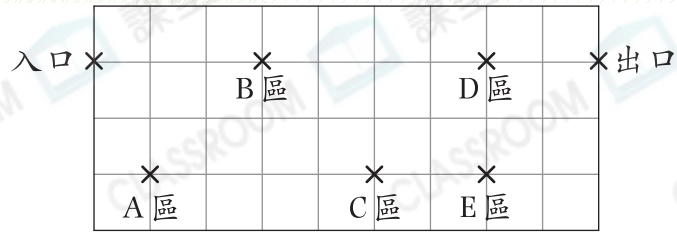
(a) 偉良從家出發前往學校，他應向哪一個方向走，路程才是最短的？(只須寫出答案)【2分】

答案：\_\_\_\_\_方

(b) 陳醫生從港鐵站前往醫院，他的行走路線是怎樣？(只須寫出答案)【2分】

答案：先向西北方走，經過\_\_\_\_\_，轉向\_\_\_\_\_方走到醫院。

12.



上圖是動漫展的平面圖，E區在D區的東方。

(a) 出口在入口的哪一方？(只須寫出答案)【2分】

答案：\_\_\_\_\_方

(b) 曉光由B區去C區，他應向哪一個方向走，路程才是最短的？(只須寫出答案)【2分】

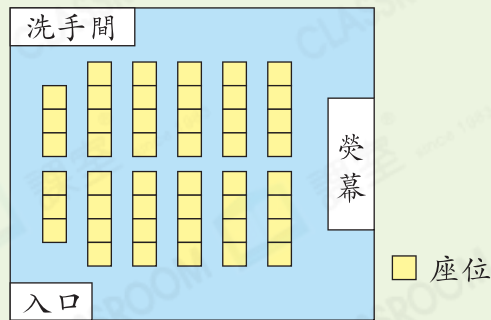
答案：\_\_\_\_\_方

(c) 哲誠從A區先向西北方走到下一個區域，再轉向北方走到另一個區域。他先後到達哪些區域？(只須寫出答案)【2分】

答案：他先到達\_\_\_\_\_區，然後到達\_\_\_\_\_區。

**跨課題專區**

13.



以上是戲院的平面圖，入口在洗手間的西北方。

(a) 當觀眾在面向熒幕看電影時，他們望向哪一方？(只須寫出答案)【2分】

答案：\_\_\_\_\_方

(b) 一張戲票售 \$108，一次購買3張或以上，每張可減免 \$19。美珍購買了3張戲票，共須付款多少？(只須寫出答案)【2分】

答案：\$ \_\_\_\_\_