

7 棒形圖

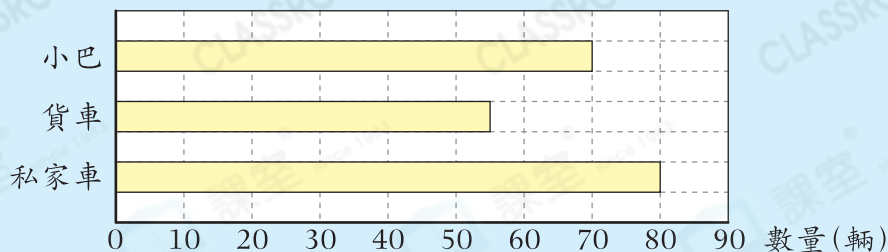


► 閱讀及製作一格代表10、50、100個單位的棒形圖

小診室

例

停車場停泊各種車輛的數量



停車場停泊了貨車多少輛？

答案： 50 輛 **✗**

我會改

答案： 輛

錯點分析

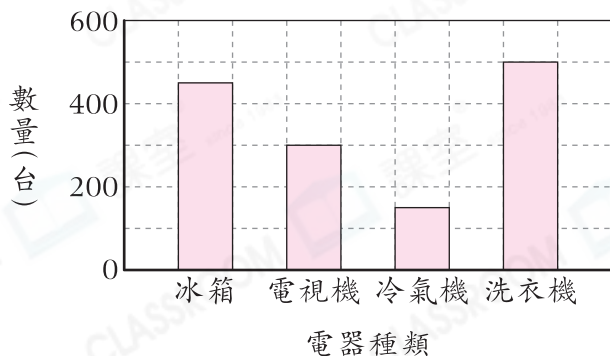
未留意半格代表的數量。

甲部 選擇題

選出正確的答案填在空格內。(12分，每題2分)

根據下圖，回答第1—3題。

電器店一月購入電器的數量



1. 電器店一月購入冰箱的數量是冷氣機的多少倍？

- A. 1
- B. 2
- C. 3
- D. 4

2. 電器店一月購入數量最多和最少的電器相差多少台？

- A. 200
- B. 250
- C. 300
- D. 350

至醒祕訣

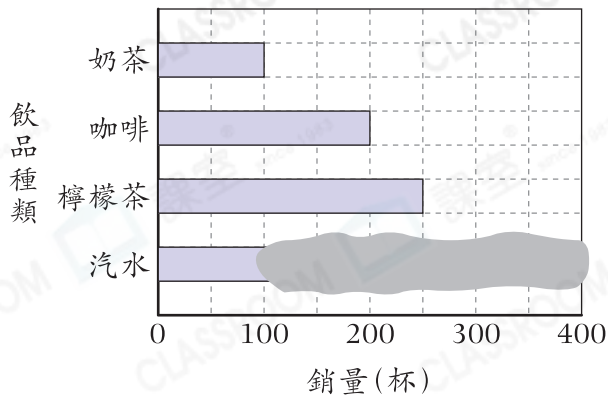
棒越長，代表的數量越多。

3. 電器店一月共購入電器多少台？

- A. 1400
- B. 1450
- C. 1500
- D. 1550

根據下圖，回答第4—6題。

飲品店上星期各款飲品的銷量



4. 奶茶和咖啡的總銷量是多少杯？

- A. 300
B. 350
C. 400
D. 450

5. 銷量最高的兩款飲品平均銷量是300杯，汽水的銷量是多少杯？

- A. 250
B. 300
C. 350
D. 400

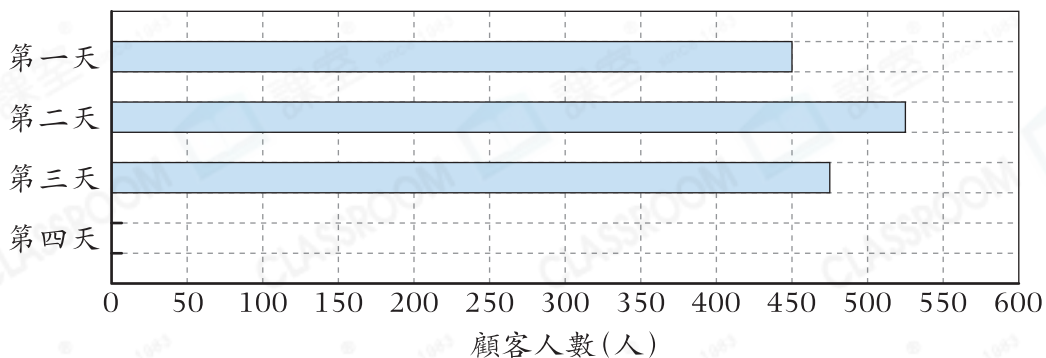
6. 奶茶和咖啡每杯售\$25，比另外兩款飲品貴\$6。飲品店上星期的總收入是多少？

- A. \$12700
B. \$18900
C. \$19600
D. \$26100

乙部 短答及列式計算題

除特別指明外，在回答本部問題時，須列出計算步驟。(4分)

7. 妙趣自助餐廳開業首四天的顧客人數



(a) 第四天的顧客人數比首三天的一半少325人，在上圖畫出代表第四天顧客人數的棒。【2分】

(b) 哪連續兩天的顧客人數相差最少？相差多少人？(只須寫出答案)【2分】

答案：第_____天和第_____天的顧客人數相差最少，相差_____人。