

8 複合棒形圖

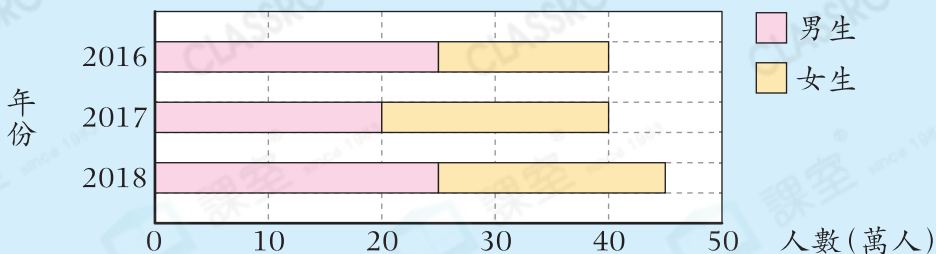


- ▶ 閱讀複合棒形圖
- ▶ 製作複合棒形圖

小診室

例

香港小學學生人數



2016年，香港有女小學生多少萬人？

答案：_____ 25 _____ 萬人 **✗**

我會改

答案：_____ 萬人

錯點分析

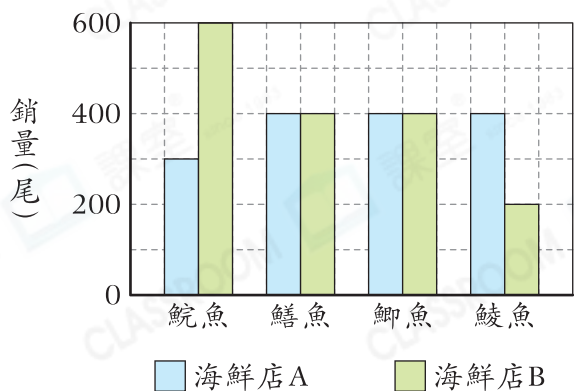
混淆了各棒代表的項目。

甲部 選擇題

選出正確的答案填在空格內。(24分，每題2分)

根據下圖，回答第1—3題。

兩間海鮮店上星期各種魚的銷量



1. 哪一種魚在兩間店的總銷量最低？

- A. 鮫魚
- B. 鱈魚
- C. 鯽魚
- D. 鯪魚

2. 比較兩間海鮮店各種魚的銷量，哪種魚的銷量相差最多？

- A. 鮫魚
- B. 鱈魚
- C. 鯽魚
- D. 鯪魚

至醒祕訣

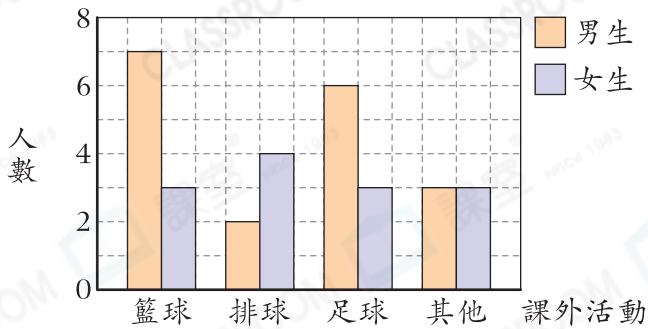
數出相差的格數來判斷。

3. 兩間海鮮店各種魚的總銷量相差多少尾？

- A. 1500
- B. 500
- C. 100
- D. 50

根據下圖，回答第4—6題。

5A班學生最喜愛的課外活動



4. 投票給哪一項課外活動的女生人數是男生的一半？

- A. 籃球
B. 排球
C. 足球
D. 其他

5. 最喜愛游泳的學生佔其他項目的 $\frac{1}{3}$ ，即有多少名學生最喜愛游泳？

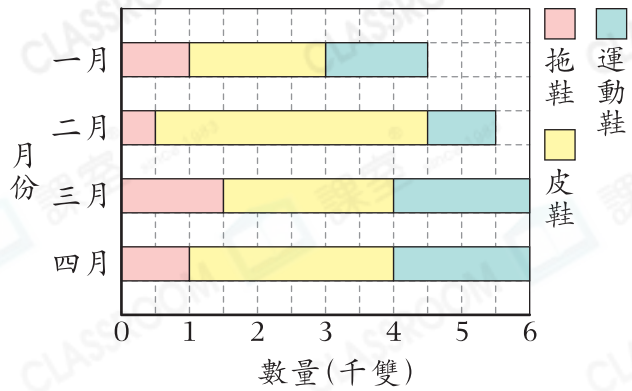
- A. 1
B. 2
C. 4
D. 6

6. 5A班學生以一人一票的方式參與投票，但當天有3名學生缺席投票，5A班有學生多少人？

- A. 31
B. 34
C. 35
D. 36

根據下圖，回答第7—9題。

三款鞋子的生產量



7. 三月運動鞋的生產量比一月的是增加還是減少了？相差多少雙？

- A. 增加，500
B. 增加，1000
C. 減少，500
D. 減少，1000

8. 在一月至四月皮鞋的總生產量是多少雙？

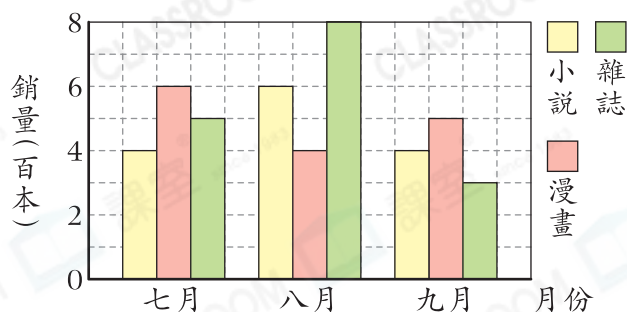
- A. 10500
B. 11500
C. 12000
D. 15500

9. 在哪個月皮鞋的生產量是拖鞋和運動鞋的生產量之和？

- A. 一月
B. 二月
C. 三月
D. 四月

根據下圖，回答第10—12題。

書局各類書籍的銷量



10. 下列哪一項是錯誤的？

- A. 八月雜誌的銷量是漫畫的2倍。
- B. 七月和九月小說的銷量相同。
- C. 有兩個月漫畫的銷量比雜誌低。
- D. 小說三個月的總銷量是1400本。

11. 在七月和九月，這三類書籍的總銷量相差多少本？

- A. 250
- B. 300
- C. 350
- D. 400

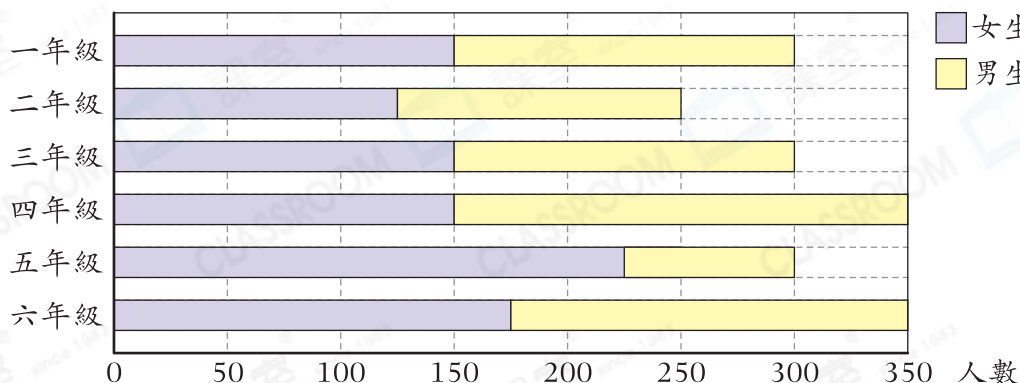
12. 小說每本售\$75，漫畫每本售\$42，雜誌每本售\$56，書局在九月售出這三類書籍的收入是多少？

- A. \$56500
- B. \$59600
- C. \$65700
- D. \$67800

乙部 短答及列式計算題

除特別指明外，在回答本部問題時，須列出計算步驟。(16分)

13. 參加港島區陸運會的各級學生人數



(a) 哪一個年級參加陸運會的男生人數最多？(只須寫出答案)【2分】

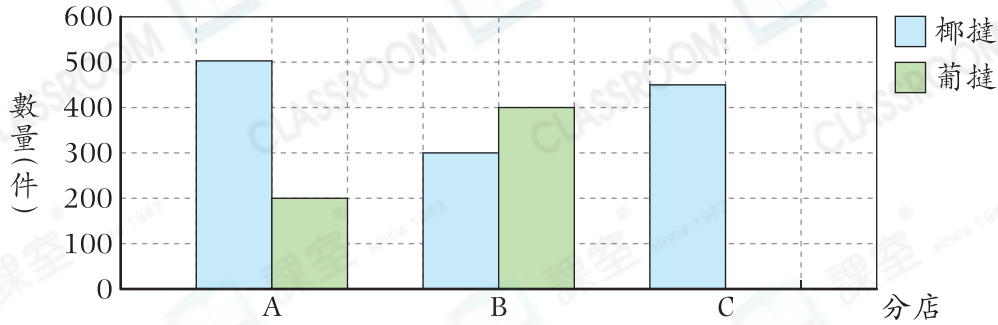
答案：_____年級

(b) 共有多少名女生參加陸運會？(只須寫出答案)【2分】

答案：_____名

14.

泰和餅店今天各分店椰撻和葡撻的銷量



(a) 泰和餅店分店C的葡撻銷量是分店A的3倍，在上圖畫出代表分店C葡撻銷量的棒。【2分】

(b) 根據統計圖及右表，餅店售出椰撻的總收入會否多於葡撻的總收入？試解釋。【4分】

答案：因為

	售價(每件)
椰撻	\$7
葡撻	\$9

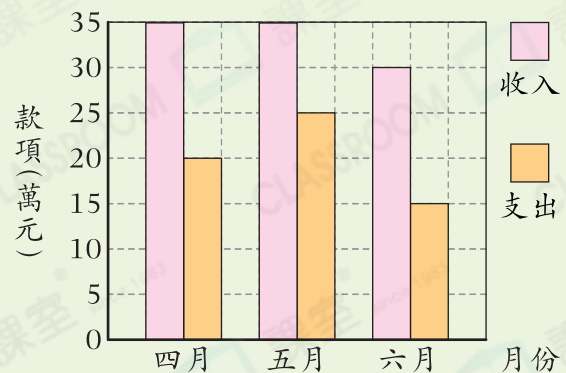
所以椰撻的總收入 * 會 / 不會 (*圈出答案)多於葡撻的總收入。

跨課題專區

15. 右圖是超級市場四月至六月的收入和支出。

超級市場四月至六月的收入和支出

(a) 超級市場四月至六月的盈利是多少萬元？【4分】



(b) 超級市場七月將舉行優惠活動，消費每滿\$50，可獲減\$5。林太太想於七月在該超級市場購買兩張原價各是\$334的被芯，她可節省款項多少？(只須寫出答案)【2分】

答案：\$ _____