



8 長度和距離

日期

成績



鞏固訓練

圈出答案。

1. 較高的



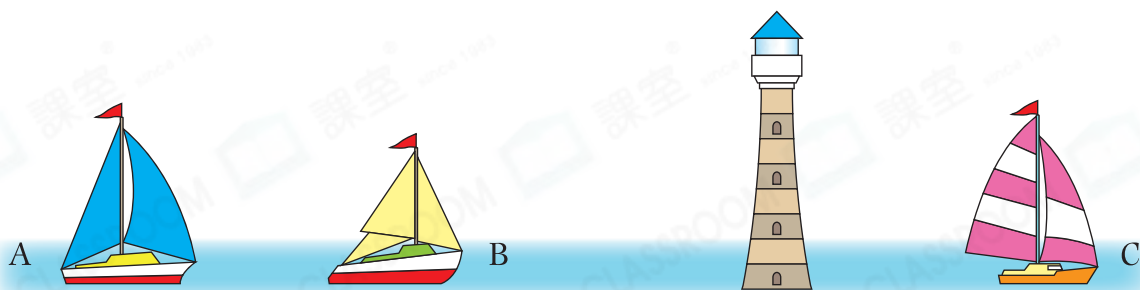
2. 較厚的



3. 最長的



在橫線上填答案。



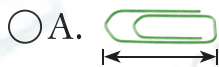
4. 距離燈塔最近的是_____船。

5. _____船與_____船之間的距離最遠。



題型突破

6. 下列哪一項最適合用來量度  的長度？



前往 P.23 查看同類型易錯題分析

7.



(a) 比較上面學生的身高，最高的是

- A. 國全。 ○B. 詩美。 ○C. 佳欣。 ○D. 子俊。

(b) 最接近佳欣的是* 國全 / 詩美 / 子俊 (*圈出答案)。

8. A



B



C



比較上圖三把勺子的長度，最長的是勺子* A / B / C 。

(*圈出答案)

9. (a) 與 之間的距離是

_____ 把 。

(b) 如果再多放一份 ，它與

之間的距離是 6 把 。

現在距離 最遠的物件是

* / / / 。

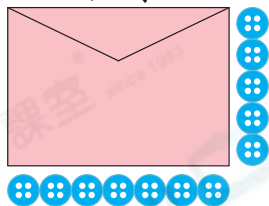
(*圈出答案)



跨課題專區

10.

信封



賀卡 A



賀卡 B



(a) 賀卡* A / B (*圈出答案) 能夠放入信封內。

(b) 詠思有 5 張賀卡 A 和 8 張賀卡 B，她共有 _____ 張賀卡。