

# 單元小測(二)

試前衝刺



日期

限時：20分鐘

練習 5 - 8

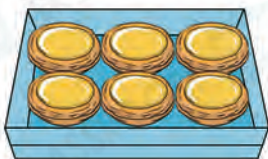


12分鐘

回答下列各題。(9分)

1. 茶餐廳原有 ，用去一些後，餘下4包，茶餐廳用去了\_\_\_\_\_包 。(1分)


2. A



B




C





(a) 兩個B盒共有\_\_\_\_\_個蛋撻。(1分)

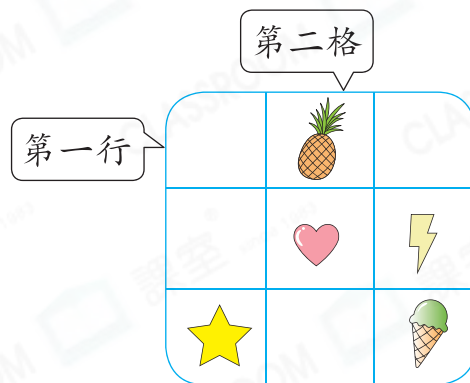
(b) \_\_\_\_\_盒和\_\_\_\_\_盒共有14個蛋撻。(1分)

3. 右圖是志偉的貼紙簿。

(a)  在第三行第二格，在右圖中加「○」表示它的位置。(1分)


(b)  和  都在第\_\_\_\_\_行。(1分)

(c) 現在有2張貼紙要放在同一行，它們只可放在第\_\_\_\_\_行。(1分)

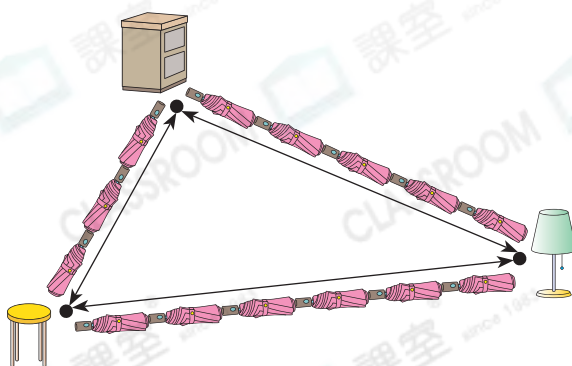


4. 盆栽 \* A / B / C 最矮。(1分)



(\* 圈出答案)



5.



(a) 距離  較遠的是

\*  /  (\* 圈出答案)。(1分)

(b) \*  /  /  之間的距離

最近。(\* 圈出答案) (1分)



選出答案，把代表答案的○塗黑和塗滿。(6分，每題1分)

6. 下列哪一項可以表示「15可分成6和9」?

A.  $15 = 6 + 9$

B.  $15 = 6 - 9$

C.  $15 + 6 = 9$

D.  $9 - 6 = 15$

7. 妹妹吃了3顆車厘子，還有3顆，她原有車厘子多少顆?

A. 9顆

B. 8顆

C. 7顆

D. 6顆

8.



第一



走開後，哪一隻動物排第四?



9. 朱小姐在超級市場排隊付款，她前面有10人，後面有3人，朱小姐排在第幾位?

A. 第二

B. 第四

C. 第十

D. 第十一

10. 右面鉛筆的長度約是多少塊擦膠的長度?

A. 1塊

B. 2塊

C. 3塊

D. 4塊



11. 下列哪個物件最適合用來量度一本手冊的長度?

