

陷阱放大鏡 (一)

練習 2 20 以內的數

◆ 未能正確比較兩組物件的數量。

P.4 Q6

例



上圖中，*  /  較多。

(* 圈出答案) **X**

檸檬佔位較多，
誤以為數量較多。

請改正

*  /  較多。


(* 圈出答案)



答題小祕訣

可用一一對應的方法比較兩組物件的數量。

追蹤練習



上圖中，*  /  (* 圈出答案) 較少。

練習 4 單數和雙數

◆ 忽略題目中的關鍵字眼。

P.9 Q11

例 由 14 倒數至 8，共有雙數多少個？

答案： 7 個 **X**

誤以為求由 14 倒數至 8 所有的數。

請改正

答案： 個



答題小祕訣

先列出由 14 倒數至 8 的所有數，再從中選出雙數。

追蹤練習

由 9 開始順數，第三個單數是多少？

答案：

練習5 次序和數量

◆ 忽略了排列次序的方向。

P.13 Q7

例



上圖中， 排在第幾？

第一

請改正

答案：第 三

以為是由左至右數。

答案：第 _____



答題小秘訣

回答有關次序的題目時，應先找出「第一」所在的位置。

追蹤練習



 和  上車後， 排在第 _____。

練習8 長度和距離

◆ 未能選出合適的自訂單位。

P.18 Q6



例

下列哪項最適合用來量度保温杯的高度？



錯選長度與保温杯相近的作為量度工具。

請改正



答題小秘訣

選擇的自訂單位不能太長，也不能太短。

追蹤練習

下列哪項最適合用  來量度？

A. 相冊的闊度

B. 牙刷的長度

C. 筷子的長度

D. 房間的高度