



鞏固訓練


依圖意，填答案。

1. (a)



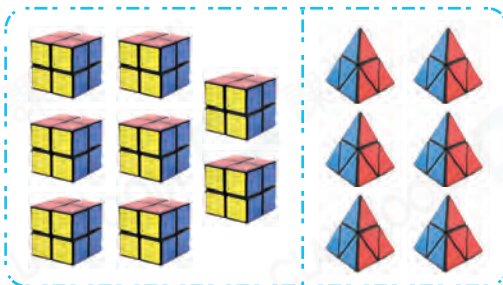
$5 + 4 = \underline{\quad}$

(b)



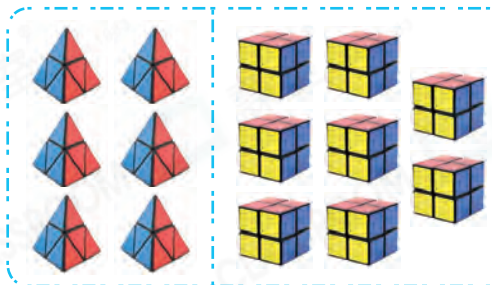
$4 + 5 = \underline{\quad}$

2. (a)



$8 + 6 = \underline{\quad}$

(b)



$6 + 8 = \underline{\quad}$

填一填。

3. $1 + 7 = \underline{\quad} + 1$

4. $3 + 6 = 6 + \underline{\quad}$

5. $9 + \underline{\quad} = 5 + 9$

6. $\underline{\quad} + 8 = \underline{\quad} + 4$



題型突破


7. 下列哪一道算式的答案和「 $4 + 9$ 」的相同？

A. $4 + 8$

B. $6 + 8$

C. $9 + 4$

D. $9 + 5$

8. 弟弟買了一包 ，如果他吃了6顆，還有9顆。如果他吃了9顆，還有 顆。

9. $3 + \star = 5$, $\star + 3 =$ _____

10. 如果 $2 + 5 = \diamond + 2$, 那麼 $\diamond + 4$ 的值是 _____。

11. 下表是一年級各班參加跳繩比賽的人數。

班級	1A	1B	1C
男生	5人	6人	8人
女生	8人	9人	5人

_____ 班和 _____ 班參加跳繩比賽的人數相同。

12.

8

1

7

5


子琦用以上四張數字卡，組成了兩道不同的算式。這兩道算式是：

+ =

+ =

跨課題專區

13.



李老師有以上兩款手工紙。

(a) 的數目是一個 * 單數 / 雙數 (* 圈出答案)。

(b) 李老師再買 4 張 和 _____ 張 ，這兩款手工紙的數量便相同。