



鞏固訓練

依圖意，把答案填在橫線上。


1.



(a) $4 - 1 =$ _____

(b) 餘下 _____ 條粟米。

2.



(a) $12 - 6 =$ _____

(b) 餘下 _____ 塊西瓜。

計算下列各題。

3. $5 - 2 =$ _____

4. $8 - 5 =$ _____

5. $10 - 1 =$ _____

6. $13 - 6 =$ _____

7. $16 - 8 =$ _____

8. $17 - 9 =$ _____



題型突破

9. 6 減 1 等於 _____。

10.



下列哪道算式可表示出數線上箭嘴變化了多少？

A. $6 + 9 = 15$

B. $6 - 15 = 9$

C. $6 + 15 = 9$

D. $15 - 6 = 9$

11. 和 相差 _____ 個。







應用題研習

12. 右圖中， 比  少多少個？


_____ — _____
 = _____


 比  少 _____ 個。



13. 蛋糕店今天用去  16個，比  多8個，但比  少7個。今天用去  多少個？

_____ — _____
 = _____

今天用去  _____ 個。

14. 爸爸買了一打 ，吃了7個後，餘下  多少個？

_____ — _____
 = _____

餘下  _____ 個。

CLASSROOM Educator

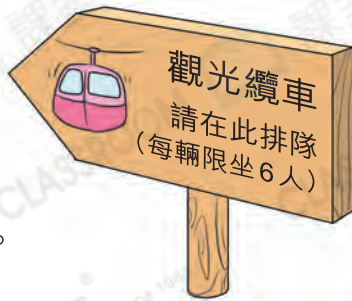
一打即12個。



跨課題專區

15. (a) 有11名遊客在等候乘搭纜車。文安在這些遊客中排第八，他後面有 _____ 名遊客。

(b) 如果要剛好坐滿2輛纜車，最少需要 * 增加 / 減少 (* 圈出答案) _____ 名遊客。



前往 P.44 查看同類型易錯題分析