



12 0的認識

日期


成績





鞏固訓練

觀察下圖，把答案填在橫線上。

1.





(a) 有 _____ 粒 。

(b) 有 _____ 粒 。

2.



(a) 有 _____ 個 。

(b) 有 _____ 個 。

計算下列各題。

3. $3 + 0 =$ _____

4. $5 - 5 =$ _____

5. $2 - 0 =$ _____

6. $0 + 9 =$ _____

7. $4 -$ _____ $= 0$

8. $7 -$ _____ $= 7$



題型突破

9. 下列哪道算式的結果不是0？

A. $2 - 2$

B. $0 + 0$

C. $8 - 8$

D. $4 + 4$

10. (a) 思琪有 _____ 枚郵票。


(b) 哥哥有6枚郵票，哥哥和思琪共有 _____ 枚郵票。

我沒有郵票。

思琪



11.



在左面的桌子上，中文書和英文書相差多少本？

答案：_____ 本



應用題研習

12. 右面共有  和  多少個？

$$\underline{\quad\quad} + \underline{\quad\quad}$$

$$= \underline{\quad\quad}$$

右面共有  和  個。





13. 爸爸買了 2 個  和 2 個 ， 比  多多少個？

$$\underline{\quad\quad} - \underline{\quad\quad}$$

$$= \underline{\quad\quad}$$

 比  多 個。

14. 嘉儀有 4 條 ，全部送給同學後，餘下  多少條？

$$\underline{\quad\quad} - \underline{\quad\quad}$$

$$= \underline{\quad\quad}$$

餘下  條。



跨課題專區

15. (a) 杯子 * A / B (* 圈出答案) 較矮。

(b) 杯子 在左面，杯子 在右面。



(c) 媽媽有杯子 A 和杯子 B 共 9 個。杯子 A 和杯子 B 最多相差 個。