



鞏固訓練

依圖意，把答案填在橫線上。

1.



$$5 + \underline{\hspace{2cm}} = 8$$

$$8 - \underline{\hspace{2cm}} = 5$$

2.



$$\underline{\hspace{2cm}} + 5 = 7$$

$$7 - \underline{\hspace{2cm}} = 5$$

3.



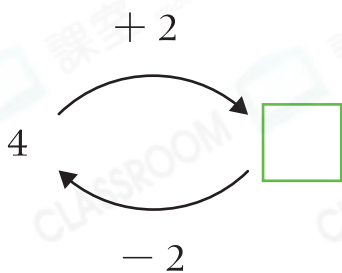
$$4 + 7 = \underline{\hspace{2cm}}$$

$$\underline{\hspace{2cm}} - 4 = 7$$

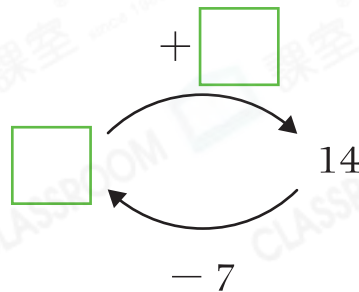
$$\underline{\hspace{2cm}} - 7 = 4$$

在空格內填上正確的數。

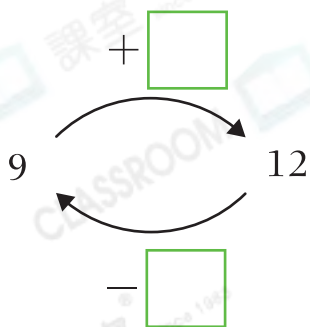
4.



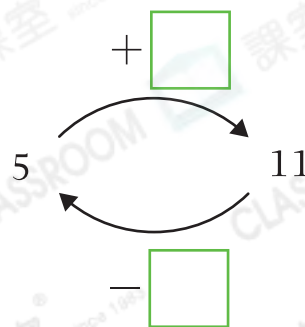
5.



6.



7.





題型突破

8. 如果 $6 + ※ = 10$ ，那麼 $※ =$ _____。

9. 根據以下的加法算式，寫出兩道相關的減法算式。

$$7 + 9 = 16$$

算式一：_____ - _____ = _____

算式二：_____ - _____ = _____

10.



(a) 上圖共有 _____ 顆巧克力。

(b) 曉婕吃了 2 顆後，還剩 _____ 顆巧克力。

11. 一包鈕扣有 6 粒  和 5 粒 .

(a) 這包鈕扣共有：_____ + _____ = _____ (粒)

(b) 如果用了 6 粒，還餘下：_____ - _____ = _____ (粒)

(c) 如果用了 5 粒，還餘下：_____ - _____ = _____ (粒)



跨課題專區

12.



(a) 若 **7** 排第一，**A** 排第 _____。

(b) 用以上數字卡可組成以下算式。

$$\boxed{A} + \boxed{5} = \boxed{B} + \boxed{7} = \boxed{9}$$

即 $A =$ _____， $B =$ _____。



知識重現

1上 次序和數量

表示物件的次序時，先找出第一的位置。