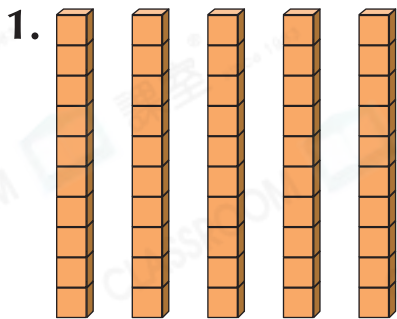




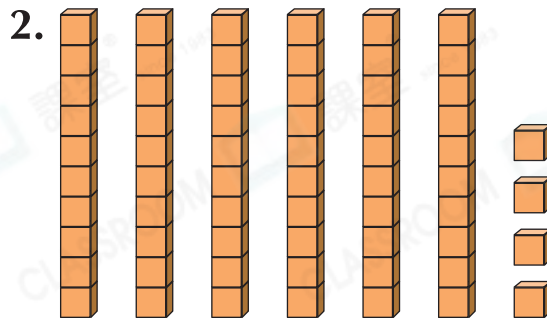
鞏固訓練

寫出以下各題中數粒的總數目，並把讀法填在橫線上。



數量：_____

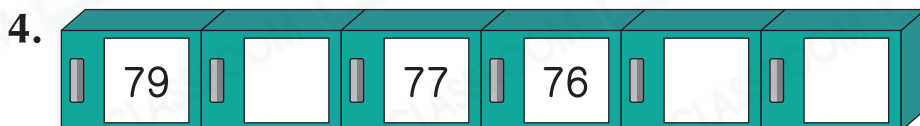

讀作：_____



數量：_____

讀作：_____

依規律，填上適當的數。



題型突破

5. 下列哪一項是倒數？

A. 90, 80, 70, 60

B. 37, 36, 35, 34

C. 61, 62, 63, 64

D. 82, 81, 80, 89

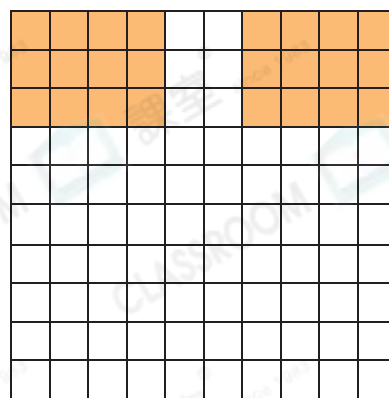
6. 用中國數字寫出「39」。

答案：_____

7. 用阿拉伯數字寫出「一百」。

答案：_____


8. 右圖中部分方格已塗上顏色。用鉛筆在餘下的方格中塗上顏色，使着色部分佔45格。



9. 

以上是倒數，☆代表的數是_____。

10. 下圖的積木依編號順數排列，但當中有些積木丟失了。

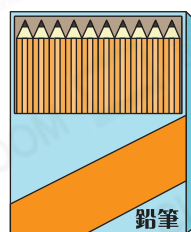





- (a) *  /  /  (*圈出答案)不是丟失的積木。

- (b) 原有_____塊積木。

跨課題專區

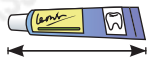

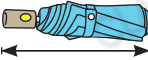
11. 文具店原有以下鉛筆。



- (a) 文具店原有_____枝鉛筆。

- (b) 芳芳買了一盒鉛筆。她送了4枝給妹妹後，還餘鉛筆多少枝？

答案：_____枝

- (c) *  /  /  (*圈出答案)最適合用來量度一枝鉛筆的長度。