



## 鞏固訓練

在橫線上填上適當的數字。


1.



(a) 2      4      \_\_\_\_\_

(b) 上圖有 \_\_\_\_\_ 個 2，即共有 \_\_\_\_\_ 隻襪子。

2.



(a) 5      10      \_\_\_\_\_

(b) 上圖有 \_\_\_\_\_ 個 5，即共有 \_\_\_\_\_ 個氣球。

3.




(a) 10      20      \_\_\_\_\_

(b) 上圖有 \_\_\_\_\_ 個 10，即共有 \_\_\_\_\_ 隻餃子。

把下列物件分成若干格，估計物件的總數量。


4.



每格約有 \_\_\_\_\_ 朵

6 格約共有 \_\_\_\_\_ 朵

5.



每格約有 \_\_\_\_\_ 粒

6 格約共有 \_\_\_\_\_ 粒



## 題型突破

6. 一袋波子，以每2粒一數後，剩下1粒，這袋波子的數量是  
\* 單數 / 雙數 (\* 圈出答案)。

7. 叔叔把以下的仙人掌放上花架。



(a) 如果每層花架放5盆仙人掌，共可放\_\_\_\_\_層。

(b) 如果每層花架放10盆仙人掌，共可放\_\_\_\_\_層。

8. 下列哪項是不正確的？

A. 8個2是16。

B. 4個5是20。

C. 3個10少2是28。

D. 7個10多5是70。

9. 爸爸吃了一件雞蛋壽司和\_\_\_\_\_碟右面的壽司，即共吃了9件壽司。



## 跨課題專區

10.



子晴

把這包糖果每2顆一數，  
剛好沒有剩餘。

子晴把這包糖果送給每位朋友5顆後，餘下2顆。

(a) 下列哪項可能是這包糖果的數量？

A. 7顆

B. 10顆

C. 12顆

D. 17顆

(b) 子晴再把餘下的糖果送給這些朋友的其中一位，該朋友分得  
\_\_\_\_\_顆糖果。