

# 單元小測(四)

試前衝刺



日期

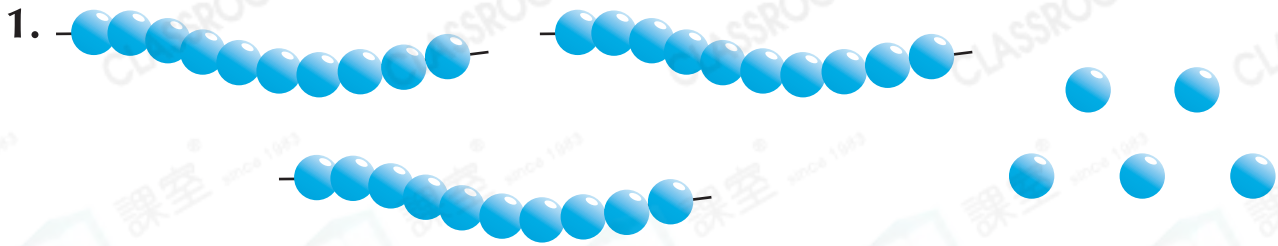
限時：20分鐘


練習 14 - 16



12分鐘

回答下列各題。(10分)



上圖共有 \_\_\_\_\_ 粒 ，這個數是 \* 單數 / 雙數。(1分)  
(\* 圈出答案)

2. 在 41 這個數裏，數字「4」是在 \_\_\_\_\_ 位，表示 \_\_\_\_\_。(1分)

3. 按規律填數字。(3分，每分題1分)

(a) 22, \_\_\_\_\_, \_\_\_\_\_, 19, 18, \_\_\_\_\_

(b) 5, 10, \_\_\_\_\_, 20, 25, \_\_\_\_\_, 35

(c) 100, 90, \_\_\_\_\_, \_\_\_\_\_, \_\_\_\_\_, 50

4. 下列是一年級學生在過去三次考試獲得滿分的人數。

考試	第一次	第二次	第三次
人數	48	55	27

把獲得滿分的人數由少至多排列出來。(1分)

答案： \_\_\_\_\_, \_\_\_\_\_, \_\_\_\_\_  
(最少) (最多)

5.



(a) 圈出上面所有的雙數。(1分)


(b) 把上面的數字卡依順數排列後，最少還欠哪兩個數？(1分)

答案： \_\_\_\_\_ 和 \_\_\_\_\_



6. (a) 右面共有 \_\_\_\_\_ 粒魚蛋。(1分)

(b) 將右面的魚蛋，每10粒分為一碟，共可分為 \_\_\_\_\_ 碟。(1分)



5分鐘

選出答案，把代表答案的○塗黑和塗滿。(4分，每題1分)

7. 下列哪一組數都是比75大，又比85小的雙數？

A. 76, 78, 80, 82

B. 75, 77, 79, 81

C. 77, 78, 79, 80

D. 77, 79, 81, 83

8. 根據右圖，下列哪項描述是正確的？

A. 1個10

B. 2個10少8

C. 2個5多2

D. 6個2少1



9. 一盒迷你月餅有2個，5盒迷你月餅共有月餅多少個？

A. 2個

B. 5個

C. 10個

D. 50個

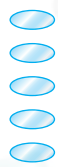
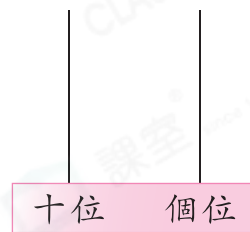
10. 國邦把5粒算珠放在算柱上，表示一個最小的兩位數，這個數是多少？

A. 50

B. 14

C. 10

D. 5

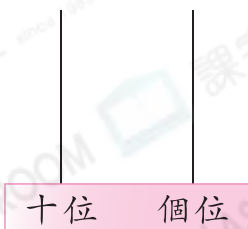


3分鐘

在算柱上畫上算珠，表示下列各數。(2分，每題1分)

11.

20



12.

35

