

# 評量

姓名：

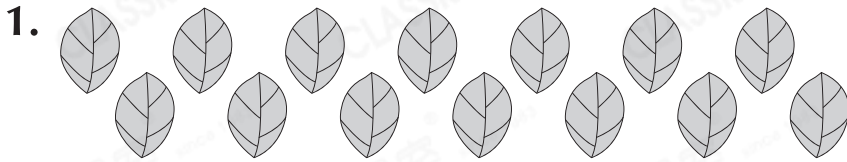
日期：


班別：  ( )

總分：  /28

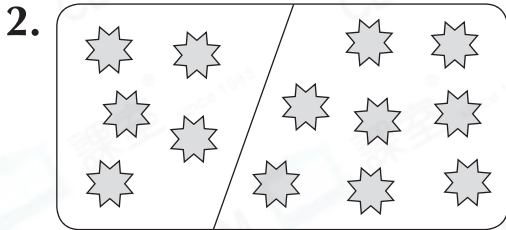
練習 1 - 8

限時：30分鐘



上圖有 \_\_\_\_\_ 片 ，這是一個 \* 單數 / 雙數。

(\* 圈出答案)




根據左圖，在橫線上填答案。

(a) 5 和 \_\_\_\_\_ 合成 \_\_\_\_\_。

(b)  $5 + \underline{\hspace{2cm}} = \underline{\hspace{2cm}}$

3. 小丑有下面的氣球。



(a) \* 圓形 / 心形 氣球較多，有 \_\_\_\_\_ 個。

(\* 圈出答案)

(b) 小丑共有 \_\_\_\_\_ 個氣球。

4. 根據指示，在空格內填上正確的數。

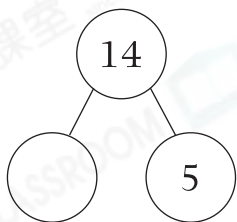
(a) 倒數：

9	8				
---	---	--	--	--	--

(b) 順數：

					14
--	--	--	--	--	----

5. 在下面的圓圈和方格內填上正確的數。



$$14 = \square + 5$$

6.

	美珊	日昇	德銘
印花(個)	15	6	8

上表顯示三位小朋友擁有的印花數量。

(a) 由少至多寫出這三位小朋友所擁有的印花數量。


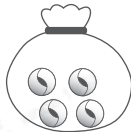

答案：\_\_\_\_\_個，\_\_\_\_\_個，\_\_\_\_\_個  
(最少) (最多)

(b) 換領一枝鉛筆需要7個印花，\* 美珊 / 日昇 / 德銘 能換領鉛筆。(\*圈出答案)


7. 列出13以內的所有雙數。



答案：\_\_\_\_\_

8. 哥哥共有11粒波子，他有下面哪兩袋波子？

答案：\*  /  /  (\*圈出答案)

9.



把上面的  分給楚逸和小樂，小樂分得的數目是單數，楚逸最多分得\_\_\_\_\_個 .



(a)  排在第\_\_\_\_\_。

(b) 拿走一個  後， 排在第\_\_\_\_\_。

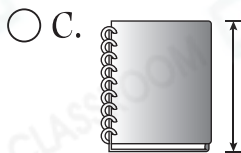
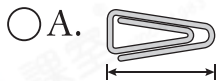
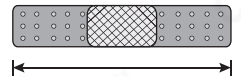
11.



(a)  在第\_\_\_\_\_排第\_\_\_\_\_位。

(b) 第二排加入兩名學生後，共有\_\_\_\_\_名學生。

12. 下列哪項最適合用來量度藥水膠布的長度？



13.



上圖中，哪座大廈最高？哪座最矮？

答案：大廈\_\_\_\_\_最高，大廈\_\_\_\_\_最矮。

20. 曉彤正在排隊購買零食。

(a) 曉彤排在第\_\_\_\_\_。

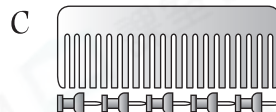
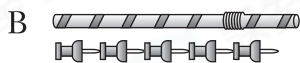
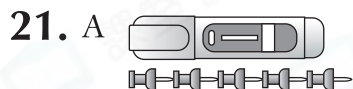
(b) 共有\_\_\_\_\_人在排隊。

(c) 曉華和曉彤之間有5人，曉華排在第\_\_\_\_\_。

我的前面有5人，  
我的後面有9人。




曉彤



(a) 物件C長\_\_\_\_\_個。

(b) 上圖中，最短的是物件\* A / B / C (\*圈出答案)。

22.



(a) 距離終點最\* 近 / 遠 (\*圈出答案)。

(b) \* / / 在 的後面。

(\*圈出所有答案)

23. (a) 在 的\_\_\_\_\_面。

(b) 在最\_\_\_\_\_面。

(c) 在\* / 和

之間。(\*圈出答案)

