



2 20以內的數



日期

成績



鞏固訓練



寫出下列物件的數量。



填一填，圈一圈。



( / ) 較多。

 比  (多 / 少) _____ 顆。



( / ) 較多。

 比  (多 / 少) _____ 顆。





題型突破

7.



(a) 有 _____ 朵  。

(b)  比  * 多 / 少 (* 圈出答案) _____ 朵。

8. 媽媽想送一打  給外婆，右面

的  * 足夠 / 不足夠 。

(* 圈出答案)



9.

飲料	牛奶	果汁	汽水
數量(盒)	4	3	16

上表顯示家中各種飲料的數量，把它們的數量由多至少排列出來。

答案：_____ 盒， _____ 盒， _____ 盒

(最多)

(最少)

10. 劉先生的兩份文件夾的編號是「比13大，但比17小的數」。圈出這兩份文件夾。



跨課題專區

11.



(a) 根據規律，空格內應該是 *  /  。

(* 圈出答案)

(b) 數量較少的蔬果有 _____ 個。



知識重現

幼稚園 序列

依規律排序的物件，
會重複出現。