



6.  $5 + 3 =$  \_\_\_\_\_

7.  $7 +$  \_\_\_\_\_  $= 4 + 7$

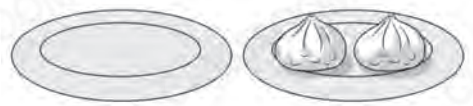
8.  $13 - 9 =$  \_\_\_\_\_

9. \_\_\_\_\_  $+ 5 = 11$


10. 由71開始倒數，第三個數是\_\_\_\_\_。

11. 右圖共有包子多少個？

答案：\_\_\_\_\_個




12.



(a) 上面共有\_\_\_\_\_粒電池。

(b) 一盒與一盒相差\_\_\_\_\_粒。

13. 郵差要到兩個都是「每5個一數」的樓層派信。圈出這兩個樓層的電梯按鈕。




(a) 上面的網球每2個裝成一筒，共可裝成\_\_\_\_\_筒。

(b) 若每5個網球裝成一筒，還欠\_\_\_\_\_個才可裝成4筒。

15. 甜品師傅用了7個  和9個  做甜品，即共用去  和  多少個？(列式計算)



\_\_\_\_\_

= \_\_\_\_\_

共用去  和  \_\_\_\_\_ 個。


16. 一箱紙巾每10包或每5包一數，都沒有剩餘。這箱紙巾可能有多少包？

A. 5包       B. 15包       C. 22包       D. 30包

17. 原有一打 ，賣出8個後，餘下  多少個？(列式計算)

\_\_\_\_\_


= \_\_\_\_\_

餘下  \_\_\_\_\_ 個。

18. 李老師買了3盒右圖的筆芯。

(a) 她共得 \_\_\_\_\_ 枝筆芯。

(b) 李老師想給5名學生各派發2枝筆芯，她的筆芯\* 足夠 / 不足夠 (\*圈出答案)派發。

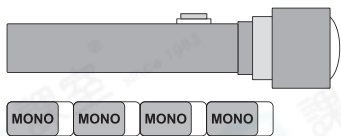


買一盒  
多送一枝

19. 浩然有5枚  和8枚 。浩菲有的郵票數量和浩然的


相同，她有8枚  和 \_\_\_\_\_ 枚 。

14.




左圖中，電筒的長度約等於\_\_\_\_\_塊擦膠的長度。


15.



(a) 沙發距離\* 牀 / 衣櫃 (\*圈出答案)較近。

(b) 牀與衣櫃之間的距離約是\_\_\_\_\_把 。

16.



(a)  在  的\* 前 / 後 (\*圈出答案)面。

(b) \*  /  /  在  的後面。

(\*圈出所有答案)



(c)  前面共有\_\_\_\_\_輛車。

17.

(a)  在最\_\_\_\_\_面。

(b)  在  的\_\_\_\_\_面。

(c) \*  /  / 

(\*圈出答案)在  和 

之間。



— 全卷完 —