



3 順數和倒數

日期

成績



鞏固訓練

圈一圈。



這是(順數 / 倒數)。



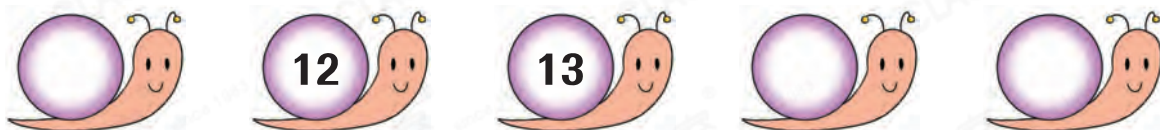
這是(順數 / 倒數)。

根據指示，填上合適的數。


3. 倒數



4. 順數



題型突破



(a) 把上面的數字由大至小排列出來。

答案：_____，_____，_____，_____，_____

(最大)

(最小)

(b) 排列後，這些數字是* 順數 / 倒數 (* 圈出答案)。

6. 下列哪項不是順數？

A. 2, 3, 4, 5

B. 7, 8, 5, 9

C. 14, 15, 16, 17

D. 16, 17, 18, 19

7. 由18開始倒數，下一個數是多少？

答案：_____

8. 由15順數至20，共有數多少個？

A. 4個

B. 5個

C. 6個

D. 7個

9. 卓仁由14樓乘電梯到10樓，順序列出他會經過的樓層。

答案：14樓，_____樓，_____樓，_____樓，10樓

10. 下圖的數字球依倒數排列，但當中有些數字球遺失了。




(a) 共遺失了_____個數字球。

(b) 遺失了的數字球依倒數填寫是_____。

跨課題專區

11.



(a) 上圖共有_____個氣球。

(b) 上圖中，* 黃色 / 綠色 / 藍色 氣球最多。

(* 圈出答案)

(c) 上圖中， 在  和 *  /  (* 圈出答案) 之間。

(d) 把上面的數字順序排列，在3至10中，缺少的數字是_____。