

單元小測(一)

試前衝刺



日期

限時：20分鐘

練習 1 - 4



回答下列各題。(14分)



1. 右圖中共有顏色筆多少枝？(1分)

答案：_____枝



2.



(a)  比  * 多 / 少 (* 圈出答案) _____ 杯。(1分)

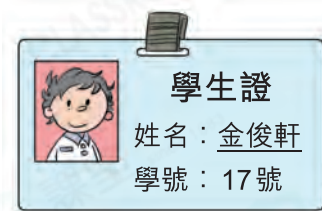
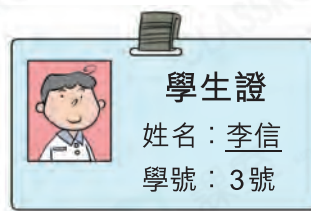
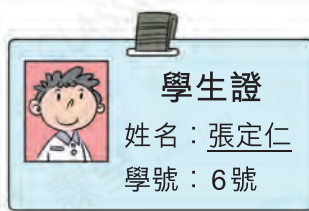
(b) 雪櫃最多可放 15 杯果汁，上面的果汁 * 能 / 不能 (* 圈出答案) 全部放入雪櫃。(1分)

3. 根據規律，填上數字。(2分，每分題1分)

(a) 7, 8, 9, _____, 11

(b) 20, _____, 18, 17, 16

4.



(a) 李信的學號是一個 * 單數 / 雙數 (* 圈出答案)。(1分)

(b) 把三名學生的學號由小至大排列出來。(1分)

答案：_____ 號， _____ 號， _____ 號
(最小) (最大)

5. 下列哪個是比 13 小的單數？(圈出答案)(1分)





6. 由16倒數至9，共有_____個數。(1分)

7. (a) 在最_____面。(1分)

(b) 在 的_____面。(1分)

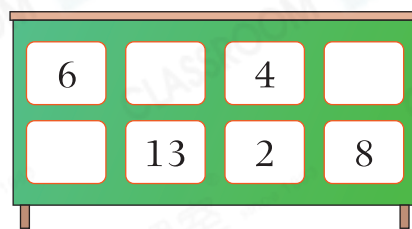


8. 小敏把不同的數字卡貼在展板上，根據提示在卡上填寫適當的數。

(a) 在 的下面。(1分)

(b) 在 的上面。(1分)

(c) 在 和 之間。(1分)



5分鐘 選出答案，把代表答案的○塗黑和塗滿。(4分，每題1分)

9. 下列哪個是比5大，但比8小的雙數？

- A. 4 B. 6 C. 7 D. 10

10. 20以內最大的單數是什麼？

- A. 13 B. 17 C. 19 D. 20

11. 下列哪組數是倒數？

- A. 11, 12, 13, 14 B. 13, 14, 15, 16
 C. 20, 19, 18, 17 D. 16, 17, 18, 19

12. 下列哪一項是正確的？

A. 在最左面。

B. 在最右面。

C. 在 和 之間。

D. 在 的下面。

