



# 5 次序和數量

日期


成績




## 鞏固訓練

在空格內填答案。

1.



2.



根據指示，把圖形塗上顏色。

3. 從左數起，第五個



4. 從右數起，第三個和第七個



## 題型突破

5. 一列火車，從第五節車廂至第九節車廂，共有車廂多少節？

A. 3 節

B. 4 節

C. 5 節

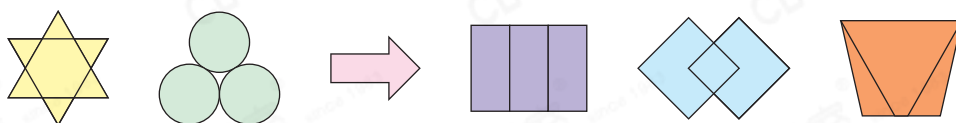
D. 6 節

6.



- (a) 排在第一， 排在第\_\_\_\_\_。
- (b) 排在第\_\_\_\_\_，前面有\_\_\_\_\_人。
- (c) 前面有3人上了巴士，他現在排第\_\_\_\_\_。

7.



上圖中， 排第三，即哪個圖案排第五？

答案：\* / / / / (\*圈出答案)

### 跨課題專區

8. 1B班有16名男生，由矮至高排列，知峰排第九。

- (a) 男生人數是一個\* 單數 / 雙數 (\*圈出答案)。
- (b) 1B班有\_\_\_\_\_名男生比知峰矮。

9. 右圖顯示大廈內不同單位的住客，霍小姐住在第一層的第三個單位。

- (a) 何先生住在哪層？哪個單位？  
答案：何先生住在第\_\_\_\_\_層，  
第\_\_\_\_\_個單位。

- (b) 張先生所住的單位在黃伯伯的  
\* 上 / 下 (\*圈出答案)面。

