



6 2至10的分和合

日期


成績



鞏固訓練

在橫線上填答案。


1.



1 和 2 合成 _____。

$1 + 2 =$ _____


2.



5 可分成 2 和 _____。

$5 = 2 +$ _____

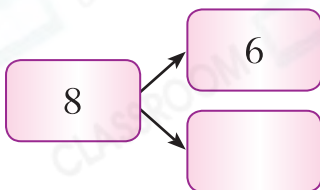
3.



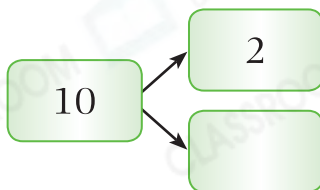
$9 - 7 =$ _____

在空格內填上正確的數。

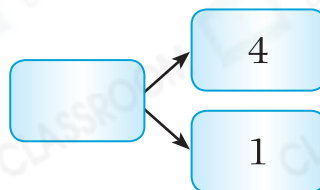
4.



5.



6.



題型突破

7. 8 可分成下列哪一組數？

A. 1 和 7

B. 3 和 6

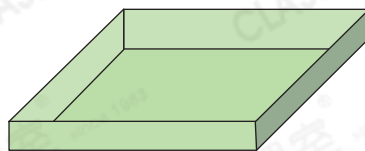
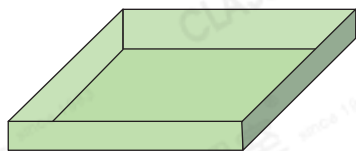
C. 7 和 2

D. 8 和 2



倩芝在壽司店點了左面的壽司，即共點了_____件壽司。

9. 把6個  分成兩份，在盒內畫「○」表示。



$$6 = \square + \square$$

10.



(a) 換領兩個  共需_____個 。

(b) 上面是黃太太的印花卡，她能用這些  同時換領哪兩種商品？

答案：*  /  /  (*圈出答案)

跨課題專區

11. 家中有右面的雞蛋。

(a) 家中有雞蛋多少隻？

答案：_____隻

(b) 媽媽把這些雞蛋分成兩份，列出其中兩種可能的分法。

分法一：第一份_____隻，第二份_____隻。

分法二：第一份_____隻，第二份_____隻。

