



## 鞏固訓練

依圖示填答案。

1.



$$8 + \square = 11$$

$$11 - \square = 8$$

2.



$$\square - 7 = \square$$

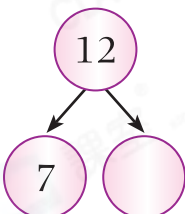
3.



$$\square - \square = 9$$

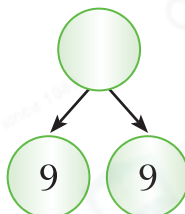
在空格內填上正確的數。

4.



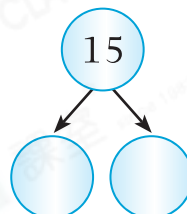
$$12 - \square = 7$$

5.



$$9 + 9 = \square$$

6.



$$\square + \square = 15$$



## 題型突破

7. 下列哪一項可表示「6和7合成13」?

A.  $7 + 13 = 6$

B.  $13 + 7 = 6$

C.  $6 + 7 = 13$

D.  $6 - 7 = 13$

8. 老師準備了右面的復活蛋，送給學生一些後，餘下9隻。



(a) 老師送給學生復活蛋多少隻？

答案：\_\_\_\_\_隻

(b) 把復活蛋送給學生後，老師買回3隻，即現在有\_\_\_\_\_隻復活蛋。

9. 農場有6頭豬和一些羊。豬和羊共有11頭，圈出羊的數目。



CLASSROOM Educator




先找出6和幾合成11。

10. 哥哥有一打 ，兩天吃完，第一天吃了3塊。用  代表一塊

，把第二天吃了的畫出來，並填寫右面的算式。

<input type="checkbox"/>	<input type="checkbox"/>	
<input type="checkbox"/>		

$$12 - \square = \square$$

11. 如果  和  合成16，那麼  代表多少？

A. 6

B. 7

C. 8

D. 9



1上 順數和倒數

順數：由小至大依次排列。  
倒數：由大至小依次排列。

 跨課題專區

12.



(a) 觀察上面數字卡，它們是\* 順數 / 倒數 (\* 圈出答案) 排列。

(b) 以上哪兩張數字卡可合成一個最大的雙數？

答案：\_\_\_\_\_和\_\_\_\_\_