

單元小測(二)

試前衝刺



日期

限時：20分鐘

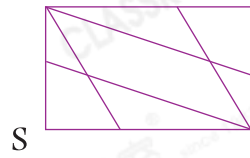
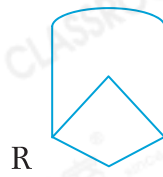

練習 5 - 8



10分鐘

回答下列各題。(10分)

1.



觀察上圖，寫出所有代表答案的英文字母。(2分，每分題1分)

(a) 只由直線組成：_____

(b) 由直線和曲線組成：_____

2. 右圖是一個

* 圓柱 / 圓錐 / 球。(1分)

(* 圈出答案)



3. 下圖是用哪些平面圖形組合而成？填上它們的名稱。(4分，每分題1分)

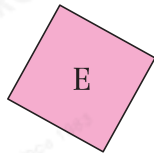

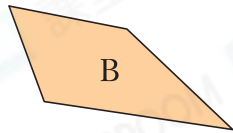
(a) _____ 形

(b) _____ 形

(c) _____ 形

(d) _____ 形

4. 觀察下面的平面圖形，寫出所有代表答案的英文字母。(3分，每分題1分)



列出：

(a) 圓形：_____


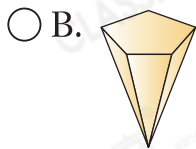
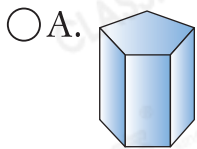
(b) 四邊形：_____

(c) 五邊形：_____



選出答案，把代表答案的○塗黑和塗滿。(5分，每題1分)

5. 下列哪個是角錐？




6. 右圖中，哪一個立體圖形在最左面？

A. 球

B. 圓錐

C. 圓柱

D. 角柱



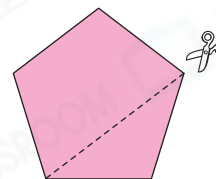
7. 右面的圖形沿虛線剪開後，較大的部分是一個什麼平面圖形？

A. 三角形

B. 四邊形

C. 五邊形

D. 六邊形



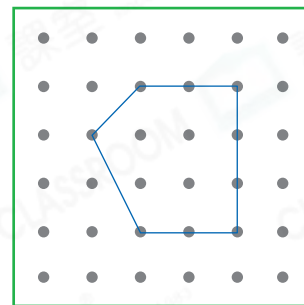
8. 哥哥在右面的釘板上圍出一個

A. 三角形。

B. 圓形。

C. 四邊形。

D. 五邊形。



9. 柏南想用右面的膠棒拼出一個六邊形，最少欠膠棒多少枝？

A. 1枝

B. 2枝

C. 3枝

D. 4枝



畫出指定的線，把圖中兩點連起來。(2分，每題1分)

10. 直線



11. 曲線

