



# 陷阱放大鏡 (一)

## 練習2 小時和時間間隔

◆ 未能正確推算時間間隔。

P.4 Q3

例 表姊今天由  兼職至 ，即兼職了多少小時？

答案： 7 小時 **X**

由8時正至1時正，錯誤地計算為： $8 - 1 = 7$ (小時)

**請改正**

答案：          小時

### 答題小秘訣

推算時間時，可通過數時針走的格數，得出時間間隔。

### 追蹤練習

晚宴由  進行至 ，晚宴長          小時。

## 練習3 星期和月份

◆ 未能正確讀出月曆的資料。

P.6 Q7

例

二月						
日	一	二	三	四	五	六
	1	2	3	4	5	6
7	8	9	10	11	12	13
14	15	16	17	18	19	20
21	22	23	24	25	26	27
28	29					

這個月有 5 個星期二。 **X**

誤把星期的最後一個空格也計算在內。

**請改正**

這個月有          個星期二。

### 答題小秘訣

可在月曆上圈出符合條件的日期，再數數。

### 追蹤練習

根據例題中的月曆，這個月的第三個星期日是          月          日。

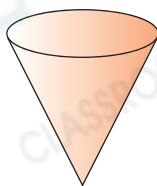
### 練習5 立體圖形

◆寫錯別字。

P.12 Q5

例 寫出右面立體圖形的名稱。

答案：圓椎 ~~X~~



請改正

答案：\_\_\_\_\_

把「錐」字寫成了「椎」字。

### 答題小秘訣

留意各立體圖形名稱的寫法，多加練習，避免寫錯別字。

### 追蹤練習



上面是一個什麼立體圖形？

答案：\_\_\_\_\_

### 練習6 點、直線和曲線

◆答案不完整。

P.15 Q8

例



上圖由\* 直線 / 曲線 組成。~~X~~  
(\* 圈出所有答案)

只圈出了其中一個答案。

請改正

上圖由\* 直線 / 曲線 組成。  
(\* 圈出所有答案)

### 答題小秘訣

回答圈答題時，留意部分題目的答案可能多於一個。

### 追蹤練習

下列哪些英文字母是由直線和曲線組成？圈出所有答案。

LONG RIVER