



9 兩位數以內的加法(一)

日期

成績

◆ 不進位



鞏固訓練

計算下列各題。

$$\begin{array}{r} 1. \quad 20 \\ + \quad 8 \\ \hline \square \end{array}$$

$$\begin{array}{r} 2. \quad 5 \\ + 34 \\ \hline \square \end{array}$$

$$\begin{array}{r} 3. \quad 51 \\ + 27 \\ \hline \square \end{array}$$

4. $6 + 73 =$ _____

5. $42 + 24 =$ _____

6. $22 + 22 =$ _____

7. $84 + 11 =$ _____



題型突破

8. 32 加上 36 的和是 _____。

9. $12 + 57 = \diamond + 17$, $\diamond = ?$

A. 17

B. 45

C. 52

D. 69




10. 巴士上原有 16 名乘客，再多 21 人上車後，巴士上共有乘客多少名？

答案：_____ 名

11. 一年級參加合唱比賽的男生有 31 人，比女生少 5 人，即參加合唱比賽的女生有 _____ 人。

12. 右圖是嘉寶果汁店購入的水果數量。

(a) 果汁店共購入  和  _____ 個。

(b) 購入  的數量比  多 65 個，果汁店購入了 _____ 個 。

嘉寶果汁店

	45 個
	12 個
	



應用題研習

13. 雯佳這次數學測驗的總分是多少分？

= _____



雯佳這次數學測驗的總分是_____分。

數學測驗	
甲部	34
乙部	15
總分	?

14. 精品店去年發售 63 個聖誕福袋，今年比去年多發售 16 個，即今年發售聖誕福袋多少個？

= _____

今年發售聖誕福袋_____個。

15. 媽媽焗製了兩打 ，即媽媽共焗製了  多少塊？

= _____

媽媽共焗製了  _____ 塊。

CLASSROOM Educator

一打即 12 塊。



跨課題專區

16.



子康有以上的數字卡。

(a) 最接近 50 的數是_____。

(b) 最小的兩個兩位數之和是_____。

(c) 子康挑選兩張和是雙數的數字卡，和最小是_____。