



13 厘米

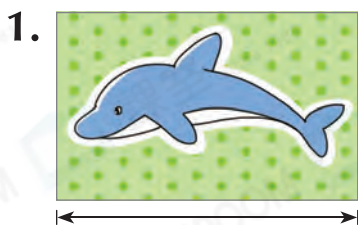
日期

成績



鞏固訓練

用直尺量度下列貼紙的長度。



_____ 厘米




_____ 厘米

在橫線上填上答案。



長 _____ cm



長 _____ cm



題型突破

5. 下列哪種工具最適合用來量度筆蓋的長度？

A.



B.



C.



D.

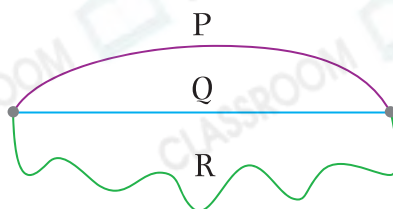


6. (a) 用直尺量度直線 Q 的長度。

答案： _____
(答案須寫上單位)

(b) 3 條線中，* P / Q / R 最長。

(* 圈出答案)



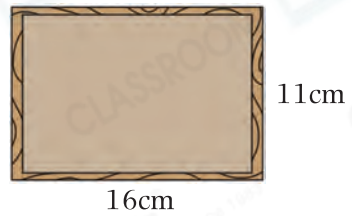
7. 在下面的空格內畫一條長10cm的直線。



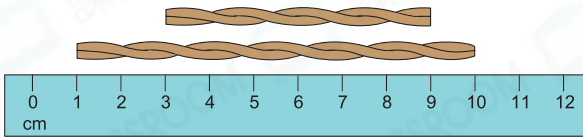
8.



上面的相片中，相片* A / B / C
(*圈出答案)可以放入右面的相框中。



9.



兩條繩子相差 _____ cm。

CLASSROOM Educator

須留意兩條繩子開始量度的刻度不同。

跨課題專區

10. 嘉明用 量度右圖微波爐的長度。

(a) 微波爐約長 _____ 個 .

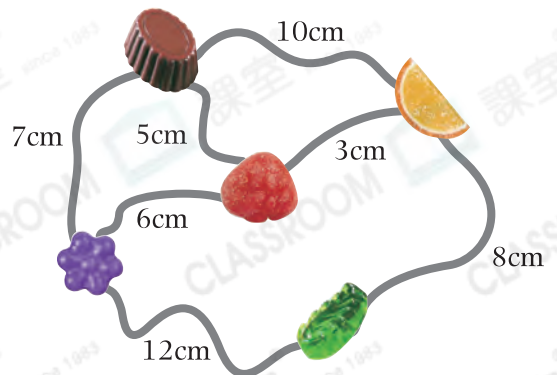
(b) 微波爐像一個* 角柱 / 角錐 / 球。
(*圈出答案)



11. (a) 螞蟻A從 經過 前往

* / ，須走11cm。
(*圈出答案)

(b) 螞蟻B從 前往 ，最短
的路程是 _____ cm。



前往P.45查看同類型易錯題分析