

單元小測(四)

試前衝刺



日期

限時：20分鐘

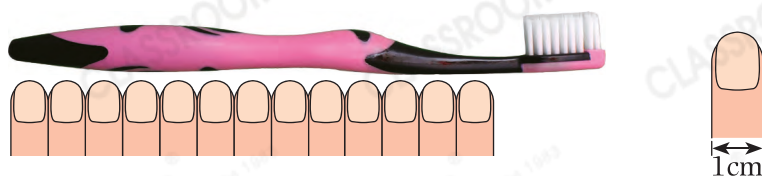
練習 13 - 15



14分鐘

回答下列各題。(11分)

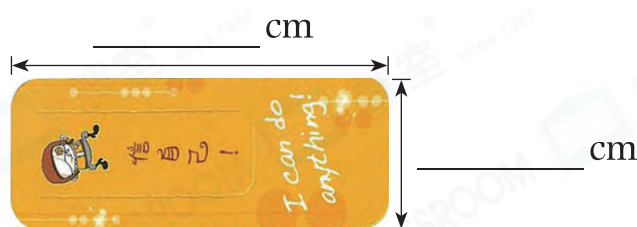
1.



(a) 牙刷的長度約是_____個。(1分)

(b) 這枝牙刷的長度比一枝長13cm的牙膏長_____cm。(1分)

2. 圖中書籤各邊的長度是多少？(2分)



3. (a) 右面甜筒的售價是多少？(1分)

答案：_____元_____角

(b) 志文想購買一個甜筒且不用找贖，最少須付_____個硬幣。(1分)



4. 以下是子謙購買擦膠所付的款項：



(a) 他付了_____個2元硬幣。(1分)

(b) 這塊擦膠的售價是_____元_____角。(1分)

5. 嘉華有



買了一個鑰匙扣後，還餘下款項多少？(1分)

答案：_____元_____角



6. 毛筆 A



毛筆 B



毛筆 C



比較上圖三枝毛筆的長度，最長的是毛筆_____。(1分)

7. 觀察右圖，一個花瓶的高度約是


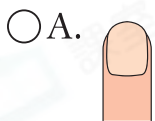
* 60cm / 50cm / 40cm / 30cm。(1分)

(* 圈出答案)

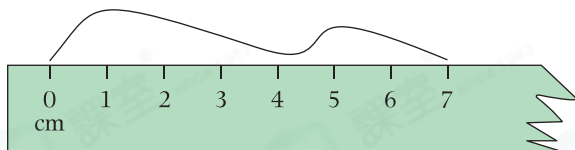


選出答案，把代表答案的○塗黑和塗滿。(4分，每題1分)

8. 下列哪種工具最適合用來量度腰圍？



9. 下圖鐵線的長度可能是多少？



A. 9cm

B. 7cm

C. 6cm

D. 5cm

10. 下列哪組款項不可能換得一個一元硬幣？



11. 子琪有5個波浪形的硬幣，這些硬幣最多共值

A. 1元。

B. 2元。

C. 5元。

D. 10元。