

立體圖形(一)

新課程過渡工作紙

數

姓名:

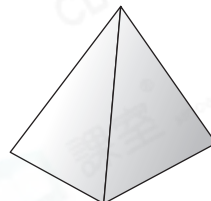
日期:

班別:

熱身練習


1. 右圖是一個*角柱 / 角錐。

(*圈出答案)

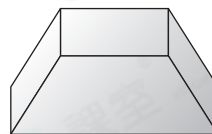


2. 寫出下列各立體圖形的名稱。

(a)



(b)



3. 依指示，圈出所有答案。

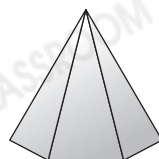
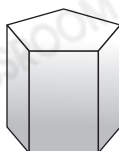

(a) 有尖頂的立體圖形



(b)



可以平穩地疊放在下面哪些立體圖形上？



能力升級

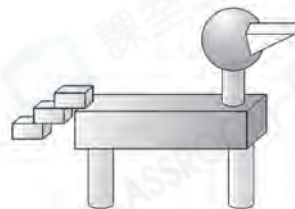
4. 觀察下列各物件，寫出所有代表答案的英文字母。



- (a) 球: _____
- (b) 圓柱: _____
- (c) 角柱: _____

5. 英紅用不同的立體圖形砌成了一個模型，如右圖所示。

- (a) 右圖有 _____ 個角柱。
- (b) 右圖有 _____ 個圓柱。



進階題

6.



弟弟把上面的餅乾整齊地疊起來，會砌成哪種立體圖形？
答案: _____