

評量

姓名：

日期：

班別：

()

總分：

/26

練習 1-3, 5-8

限時：30分鐘

1. 下列是三兄妹練字的數量。

文康	文琪	文森
54字	41字	76字

_____ 練字的數量最多，有 _____ 字。


2. 在13這個數裏，十位數字是 _____，表示的數值是 _____。

3. $9 + 5 =$ _____


4. $6 -$ _____ $= 0$

5. 學校田徑隊有36人。每5人一組，可分成 _____ 組，餘下 _____ 人。

6. 以下兩個時鐘分別顯示智傑離家及到達補習社的時間。



離家時間



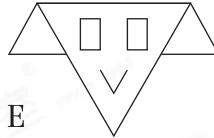
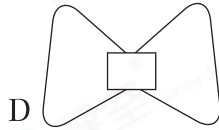
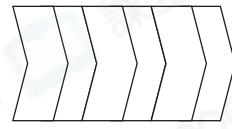

到達補習社時間

(a) 智傑在 _____ 離家。

(b) 智傑在 _____ 到達補習社。

(c) 補習社在4時正開始上課，智傑到達補習社的時間比上課時間* 早 / 遲了。(*圈出答案)

11. 觀察下列的平面圖形，寫出所有代表答案的英文字母。



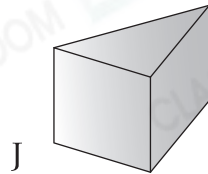
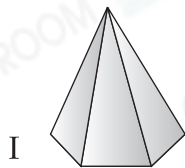
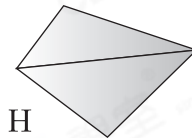
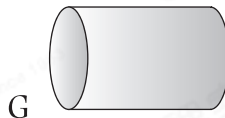
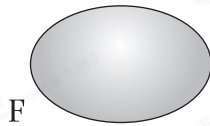
(a) 以上哪個/些圖形只由曲線組成？

答案：_____

(b) 以上哪個/些圖形由直線和曲線組成？

答案：_____

12. 觀察下列的立體圖形，寫出所有代表答案的英文字母。



(a) 以上哪個/些立體圖形是圓柱？

答案：_____

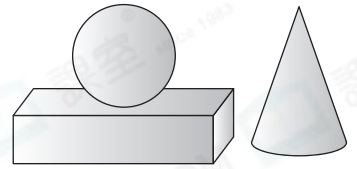
(b) 以上哪個/些立體圖形是角錐？

答案：_____

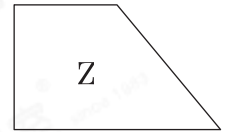
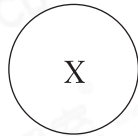
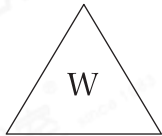
13. 右圖中，

(a) 共有 _____ 個能滾動的立體圖形。

(b) 球在 _____ 的上面。



14.

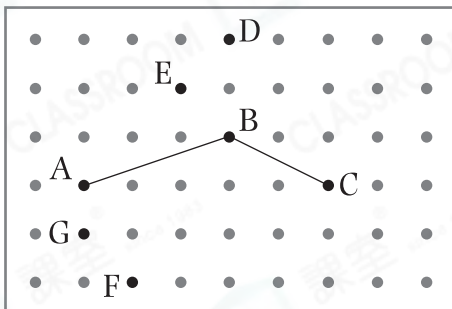


(a) 上圖中哪個圖形是四邊形？寫出代表答案的英文字母。

答案：_____

(b) 上圖中同類的圖形是* _____ 和 _____。(*寫出代表答案的英文字母) 它們是 _____ 形。

15.



建華用橡皮圈在左圖的釘板上圍一個五邊形，他應選用哪兩個點，才能與A、B和C點圍出一個五邊形？

答案：* D / E / F / G 點

(* 圈出答案)

16. 曉泰沿虛線把右圖剪開，他可以得出下列哪個/些圖形？

I. 三角形

II. 四邊形

III. 圓形

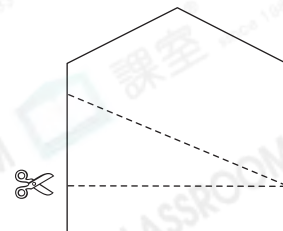
IV. 五邊形

A. 只有 I

B. 只有 I 及 II

C. 只有 I、II 及 IV

D. I、II、III 及 IV



— 全卷完 —