

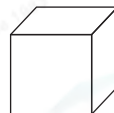
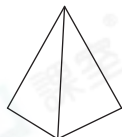


## 鞏固訓練

根據指示，把所有答案填上顏色。

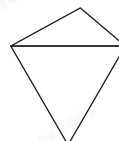
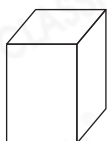
1.

可以滾動的立體



2.

角柱



3.

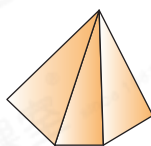
最大的球



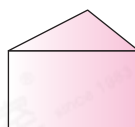
## 題型突破

4. 下列哪個立體沒有尖頂？

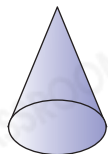
○ A.



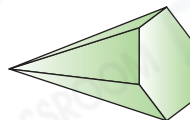
○ B.



○ C.



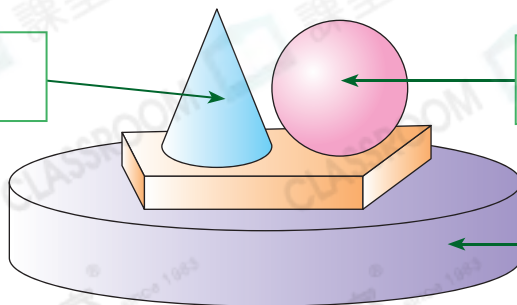
○ D.



5. 下面擺設是由不同的立體圖形組成，在空格內寫上立體圖形的名稱。

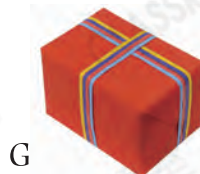
(a) \_\_\_\_\_

(b) \_\_\_\_\_



(c) \_\_\_\_\_

6. 根據指示，寫出所有代表答案的英文字母。




列出：

(a) 角柱：\_\_\_\_\_

(b) 圓錐：\_\_\_\_\_

(c) 球：\_\_\_\_\_

7. 以下哪一組立體圖形能疊得穩，但不可以滾動？



8. 把10枚右面的紀念幣整齊疊起來，可砌出一個\_\_\_\_\_。



### 跨課題專區



1上 位置

自己左手一邊是左面，  
右手一邊是右面。

9. 弟弟拼砌了一枚火箭和一輛車。

(a) 共用了\_\_\_\_\_個圓柱。

(b) 共用了\_\_\_\_\_個角柱。

(c) 用的球比角錐\* 多 / 少  
(\* 圈出答案) \_\_\_\_\_個。

(d) 車在\* 左 / 右面。  
(\* 圈出答案)

