




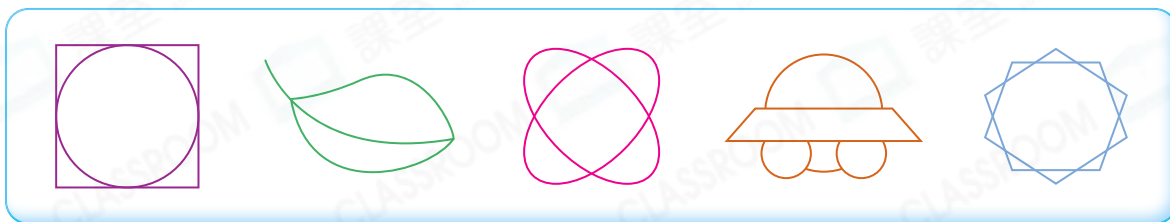
## 鞏固訓練

根據指示，圈出所有答案。

1. 只由直線組成。



2. 只由曲線組成。

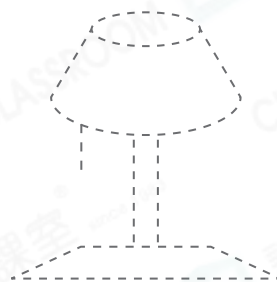


根據指示，沿着虛線畫出指定的線。

3. 所有直線



4. 所有曲線



## 題型突破

5. 可以利用下列哪種物件畫出一條直線？

○A.



○B.



○C.



○D.



6. 在右圖中，用兩條不同的曲線把兩點連起來。

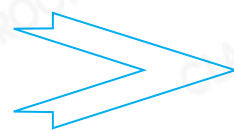


7. M  
N  
O P  
Q

左圖中，哪點不是和其他點在同一直線上？

答案：\_\_\_\_\_點

8. (a) 右圖中有\* 直線 / 曲線。 (\* 圈出所有答案)



(b) 右圖中有\* 直線 / 曲線。 (\* 圈出所有答案)



9. 根據指示，寫出所有代表答案的英文字母。



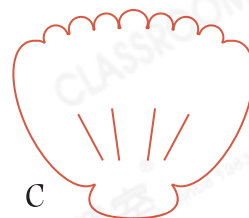
(a) 只用曲線組成：\_\_\_\_\_

(b) 用直線和曲線組成：\_\_\_\_\_



### 跨課題專區

10.



(a) 上圖中，圖A有\_\_\_\_\_條直線，圖B有\_\_\_\_\_條直線，圖C有\_\_\_\_\_條直線。

(b) 圖B比圖A多多少條直線？

答案：\_\_\_\_\_條



前往P.23查看同類型易錯題分析