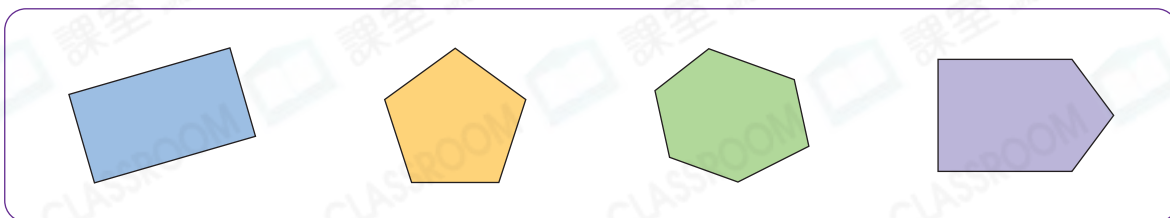




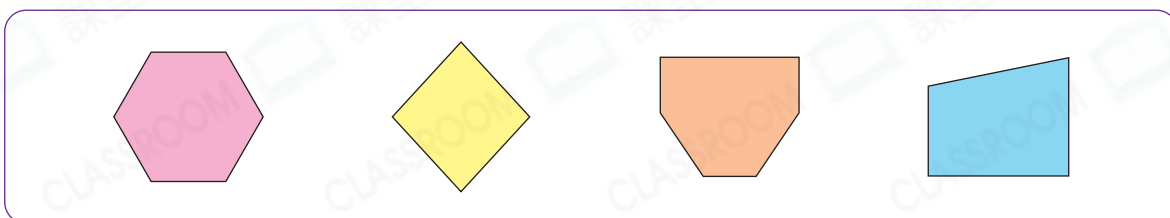
## 鞏固訓練

根據指示，圈出所有答案。

### 1. 五邊形



### 2. 六邊形



寫出下列各平面圖形的名稱。

3.



\_\_\_\_\_ 形

4.



\_\_\_\_\_ 形

5.




\_\_\_\_\_ 形



## 題型突破

6. 下列哪個平面圖形不是四邊形？

A.



B.



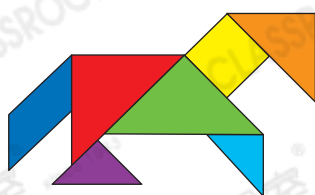
C.



D.

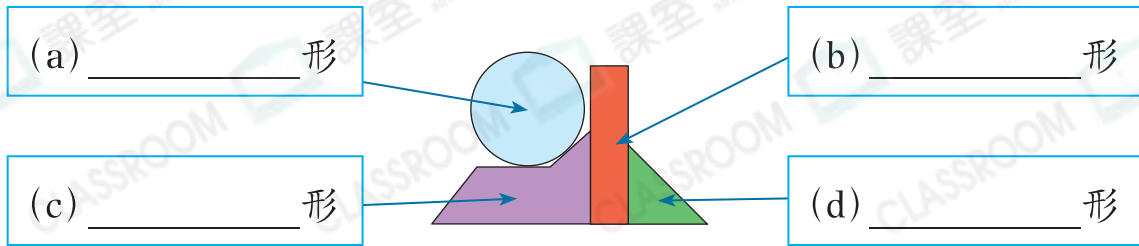


7.

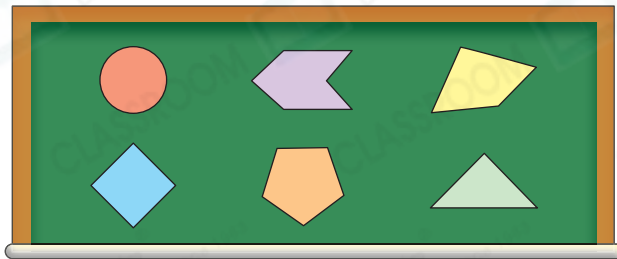


左圖是由 \_\_\_\_\_ 個三角形和  
\_\_\_\_\_ 個四邊形組成。

8. 下圖是用哪些平面圖形組合而成？填上它們的名稱。



9. 老師把六個平面圖形貼在黑板上。



(a) 圓形在 \_\_\_\_\_ 形的上面。

(b) 五邊形在 \_\_\_\_\_ 形和 \_\_\_\_\_ 形之間。

**跨課題專區**

10.

心意卡			
數量(張)	8	13	20

**知識重現**

1上 單數和雙數

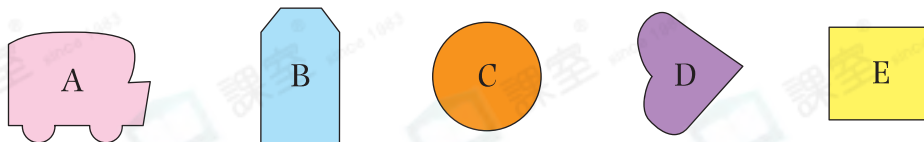
雙數：個位是 0, 2, 4, 6 或 8

單數：個位是 1, 3, 5, 7 或 9

(a) \_\_\_\_\_ 形心意卡的數量最多。

(b) \_\_\_\_\_ 形心意卡的數量是一個單數。

11. 觀察下面的平面圖形，寫出所有代表答案的英文字母。



(a) 六邊形： \_\_\_\_\_

(b) 用直線和曲線組成的圖形： \_\_\_\_\_