




鞏固訓練

根據提示，在空格內填上代表答案的英文字母。

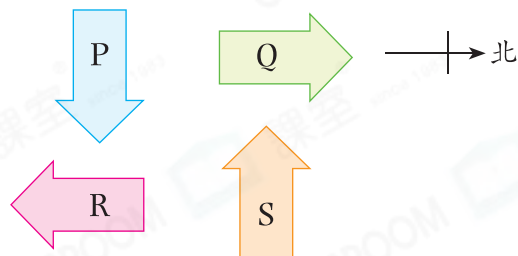
1. A店在女孩的西方。
2. B店在女孩的南方。
3. C店在入口的東方。
4. 入口在D店的北方。



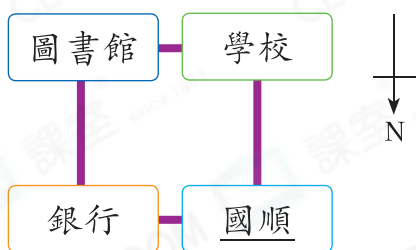
題型突破

5. 右圖中，哪個箭嘴指向西方？

- A. P B. Q
 C. R D. S



6.



國順先向* 東 / 南 / 西 / 北 方走，經過學校，再往* 東 / 南 / 西 / 北 方走就可到達圖書館。（*圈出答案）

7.



美琴由郵政局步行至學校，根據上圖，美琴先向_____方走，然後轉向_____方，最後向_____方走便可到達。

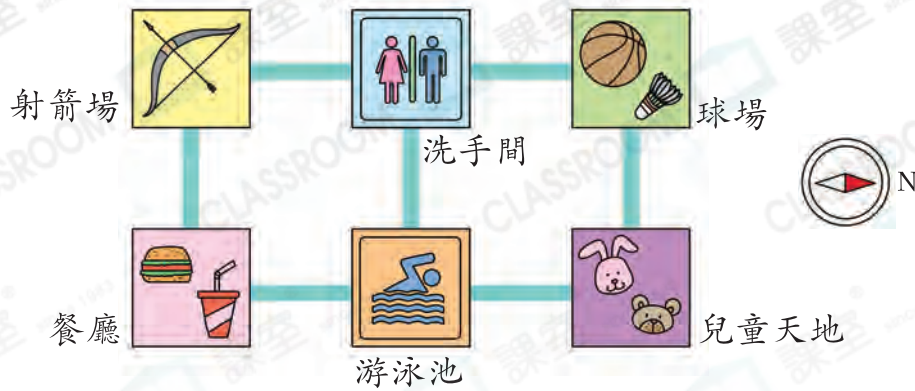
8. 佩欣面向東方站立，她的左面是哪方？

答案：_____方

CLASSROOM Educator

應以佩欣為方向標示的中心。

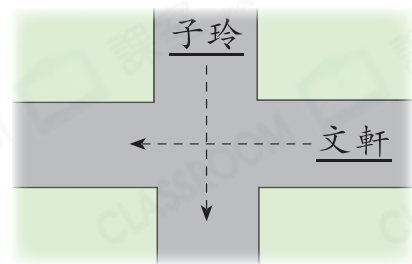
9. 下圖是康樂中心的部分平面圖。



(a) 洗手間在游泳池的_____方。

(b) 鎮宇從餐廳向北方走，可到達_____。

10. 右圖中，文軒正沿着小路向西方走，到達路口時，子玲從他的右面走來。子玲正向_____方走。



跨課題專區

11.

入口	文具部	服裝部		
*	*	*		
	玩具部			
	*			
	日用品部	收銀處	出口	
	*	*	*	

上圖是陽光百貨的平面圖。

(a) 文具部在入口的西方，收銀處在服裝部的_____方。

(b) 紫希在玩具部，她向南方走，會走到_____。

(c) 服裝部售出了81件成人毛衣和65件小童毛衣，小童毛衣比成人毛衣少售出多少件？

答案：_____件