

# 單元小測(二)



日期

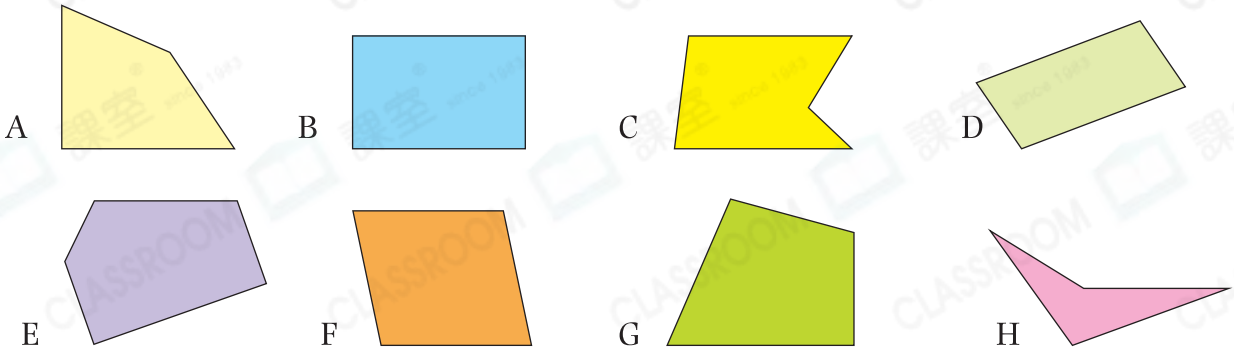
限時：20分鐘

練習 6 - 8



回答下列各題。(6分)

1. 觀察下列圖形，寫出所有代表答案的英文字母。



(a) 有垂直線的圖形：\_\_\_\_\_ (1分)

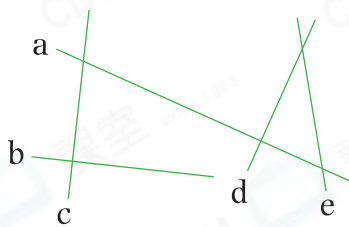
(b) 沒有銳角的圖形：\_\_\_\_\_ (1分)

2. 觀察下圖，把 w、x、y 和 z 四個角由小至大排列出來。(1分)



答案：\_\_\_\_\_，\_\_\_\_\_，\_\_\_\_\_，\_\_\_\_\_ (最小) (最大)

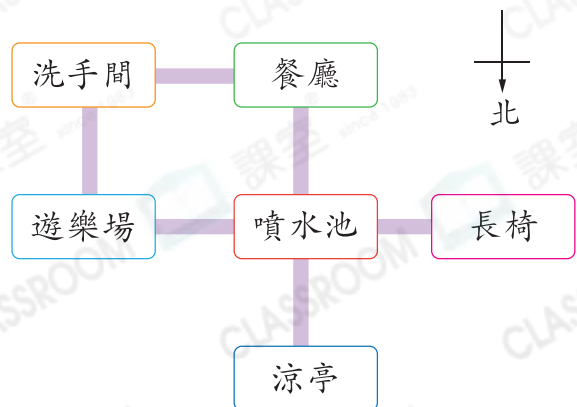
3. 左圖中，共有 \_\_\_\_\_ 組垂直線。(1分)



4. 右圖是某公園的地圖。

(a) 玥雯從噴水池向西方走，便到達\* 餐廳 / 長椅 / 涼亭 (\*圈出答案)。(1分)

(b) 洗手間在遊樂場的\* 東方 / 南方 / 西方 / 北方 (\*圈出答案)。(1分)

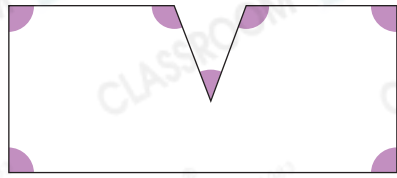




選出答案，把代表答案的○塗黑和塗滿。(3分，每題1分)

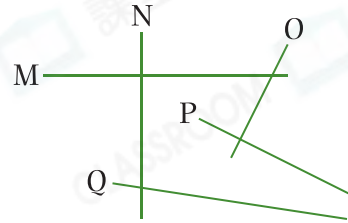
5. 右圖共有銳角多少個？

- A. 0個
- B. 1個
- C. 2個
- D. 4個



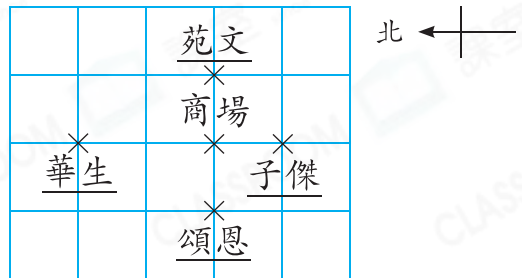
6. 右圖中，哪條線與直線P互相垂直？

- A. 直線M
- B. 直線N
- C. 直線O
- D. 直線Q



7. 四人約定到商場。他們分別從不同的地方出發，結果向西方走的人先到達商場，那麼是誰先到達商場？

- A. 子傑
- B. 苑文
- C. 華生
- D. 頌恩

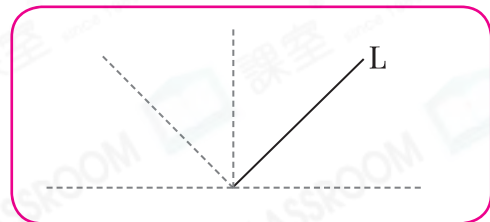
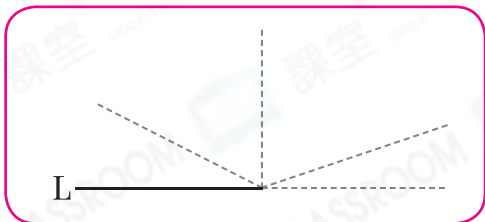


依指示繪圖。(4分)

8. 沿虛線畫出一條直線，與直線L形成指定的角。

(a) 直角(1分)

(b) 鈍角(1分)



9. 在下列各圖中分別加畫一條直線，使它與原來的直線互相垂直。

(2分，每分題1分)

(a)



(b)

