



13 時間(二)

日期

成績

◆ 一天的時間



鞏固訓練

寫出數字鐘顯示的時間。

1.



_____ 午 _____ 時 _____ 分

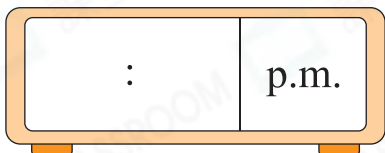
2.



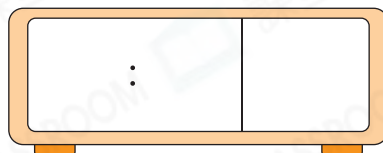
_____ 午 _____ 時 _____ 分

在數字鐘上填時間。

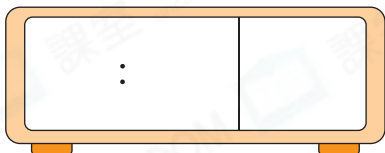
3. 下午 11 時 50 分



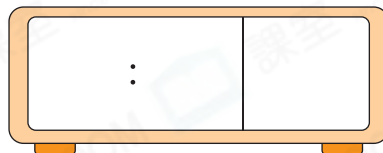
4. 上午 12 時 16 分




5. 上午 7 時 43 分




6. 下午 2 時 3 分



題型突破

7. (a) 煙花匯演在  開始，那時是 _____ 午 _____ 時 _____ 分。

(b) 爺爺在  開始收看電視直播，那時煙花匯演已進行了多少分鐘？

答案：_____ 分鐘

8. 叔叔的上班時間是上午 8 時 30 分，他今天在上午 8 時 38 分回到公司，即 * 早 / 遲 (* 圈出答案) 了 _____ 分鐘上班。

9. 下午某一班巴士從起點出發的時間是



(a) 巴士的出發時間是下午_____時_____分。

(b) 巴士在下午4時56分到達終點，全程共用了多少分鐘？

答案：_____分鐘

10. 渡輪每天  開出第一班，每15分鐘一班，則第三班渡輪

在_____午_____時_____分開出。

11. 以下是某電視台星期六部分節目的播放時間表。

節目名稱	9:30 a.m.	10:15 a.m.	12:15 p.m.	1:00 p.m.
播放時間	美食天地	週末劇場	午間資訊	流行金曲

(a) 《午間資訊》在* 上午 / 下午 _____ 時 _____ 分開始播放。

(* 圈出答案)

(b) 鍾先生在收看電視期間，看了一眼數字鐘 ，他當時

正在收看《_____》，該節目已播放了_____分鐘。

跨課題專區

12.

等一等餐廳
優先場



票價：每張
時間：8:20 p.m. — 9:50 p.m. 日期：7月20日（星期六）



1上 雙數

雙數的個位數字是
0、2、4、6和8。

(a) 每張電影票的票價是最大的兩位雙數，即每張電影票的票價是_____元。

(b) 表姐在電影結束45分鐘後回到家，她在_____午_____時_____分回到家。