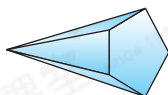




## 鞏固訓練

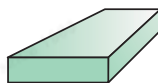
寫出以下立體圖形的名稱。

1.



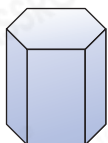
\_\_\_\_\_

2.



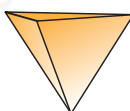
\_\_\_\_\_

3.



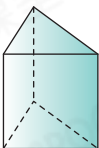
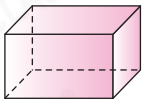
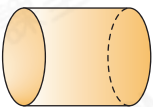
\_\_\_\_\_

4.



\_\_\_\_\_

在適當的空格內加上「✓」。

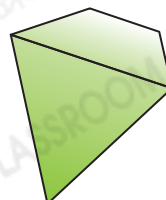
	底是三角形	底是四邊形	側面是曲面	側面是四邊形
5. 				
6. 				
7. 				



## 題型突破

8. (a) 右面的立體圖形是一個

- A. 三角形。      ○B. 四邊形。  
 ○C. 三角錐。      ○D. 四角錐。

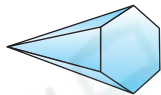


(b) 右面的立體圖形共有 \_\_\_\_\_ 個面。

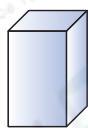
9. 觀察下面的立體圖形，寫出所有代表答案的英文字母。




A



B



C



D



E

(a) 有兩個相同的底的立體圖形：\_\_\_\_\_

(b) 側面是三角形的立體圖形：\_\_\_\_\_

(c) 有曲面的立體圖形：\_\_\_\_\_

10. 下列哪個/些立體圖形的底和側面都是三角形？

答案：\* 三角柱 / 三角錐 / 四角錐 / 五角錐 (\* 圈出所有答案)

11.



上面的平面圖形是一個立體圖形所有的面，這是什麼立體圖形？

A. 三角柱

B. 三角錐

C. 四角柱

D. 四角錐

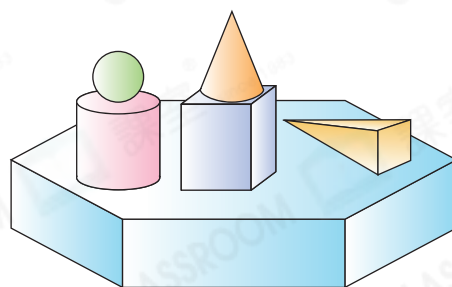


### 跨課題專區

12. (a) 最下面的立體圖形是一個

\_\_\_\_\_。

(b) \_\_\_\_\_ 在四角柱的上面，它的底是 \_\_\_\_\_ 形。



13. 俊傑有下列的硬幣：



(a) 他共有 \_\_\_\_\_ 個十元硬幣。

(b) 他把全部一元硬幣整齊地疊起來，會砌成 \_\_\_\_\_。

(c) 他砌成的立體圖形共有 \_\_\_\_\_ 個面。