

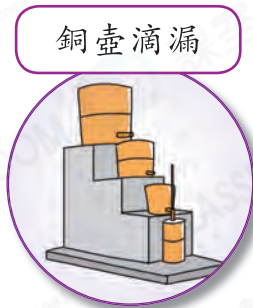
影子報時




古今計時工具



蠟燭鐘



銅壺滴漏



沙漏



日晷



時鐘



數字鐘




鞏固訓練

在空格內填上代表答案的英文字母。

- A. 手錶 B. 數字鐘 C. 蠟燭鐘 D. 沙漏 E. 時鐘

1.



2.



3.



4.



5.



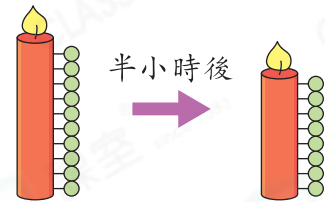
題型突破

6. 下列哪個計時工具**不可以**在晚上使用？

- A. 蠟燭鐘 B. 沙漏 C. 日晷 D. 銅壺滴漏

7. 再過多久後，蠟燭會變成  ？

- A. 30分鐘 B. 60分鐘
 C. 90分鐘 D. 180分鐘

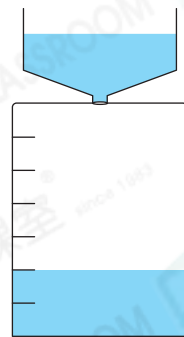


8. 右圖的水鐘由4:37PM開始盛水，
在4:57PM剛好盛滿兩格水。

(a) 水鐘每盛滿一格需要多少分鐘？

答案：_____分鐘

(b) 水鐘將會在_____午_____時
_____分盛滿水。



9. 中國古代的辰時是指_____午_____時至_____午
_____時。