




1

難度：👤👤👤👤



上面數字是從鏡子看到的影像，這個三位數是什麼？

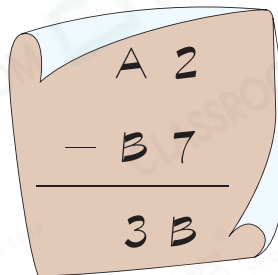
答案：_____

一剔
 你答對了嗎？

2

難度：👤👤👤👤

下列直式中，英文字母代表的數字各是多少？



答案：A = _____

B = _____

一剔
 你答對了嗎？

3

難度：👤👤👤👤

在下圖中加上一條直線，令新的直角的數目是原來的兩倍。

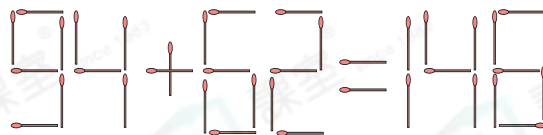


一剔
 你答對了嗎？

4

難度：👤👤👤👤

可怡用一些火柴拼出了一道算式(如下圖所示)，但她不小心多放了一根火柴。幫她取走一根火柴，使下面的算式成立。把取走的火柴圈出來。



一剔
 你答對了嗎？

5

難度：🍌🍌🍌🍌

小烏龜要回家，牠經過的數字必須是6的乘法的結果。替小烏龜畫出回家的路線。(路線不可斜向前進。)

	起點	8	16	40	60
	6	12	48	32	20
	15	45	42	26	35
	21	18	24	30	49
	36	27	3	54	終點 

✓ 一剔

你答對了嗎？

6

難度：🍌🍌🍌🍌

根據規律，在最後一個空白的數字鐘上填寫時間。




✓ 一剔

你答對了嗎？

7

難度：🍌🍌🍌🍌🍌

班長把3幅圖畫釘在壁報板上，如下圖所示。



班長想用相同的方法，把10幅圖畫釘在壁報板上，他須用圖釘多少枚？

答案：_____枚

✓ 一剔

你答對了嗎？

8

難度：🍌🍌🍌🍌🍌

下表中， \blacklozenge 代表的數字是什麼？

42	30	18
60	48	36
78	\blacklozenge	54

答案： \blacklozenge = _____

✓ 一剔

你答對了嗎？