

每20個、25個一數

新課程過渡工作紙

數

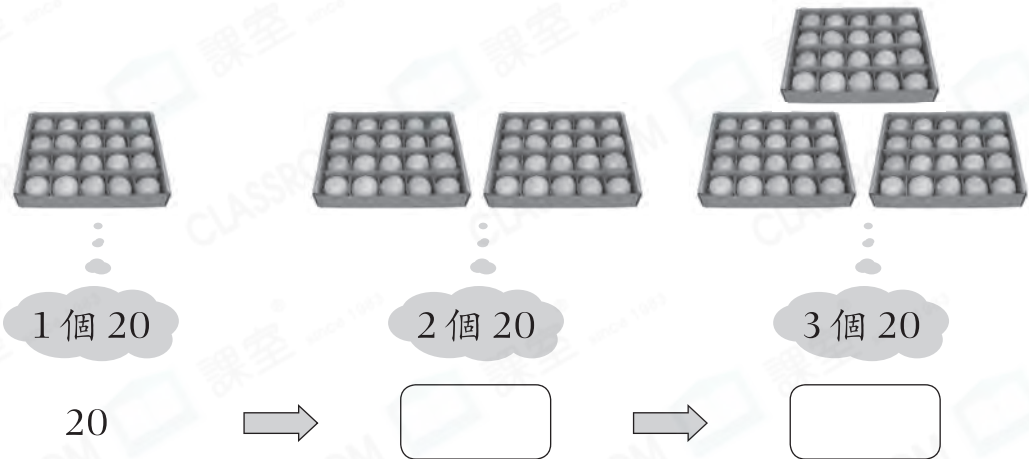
姓名:

日期:

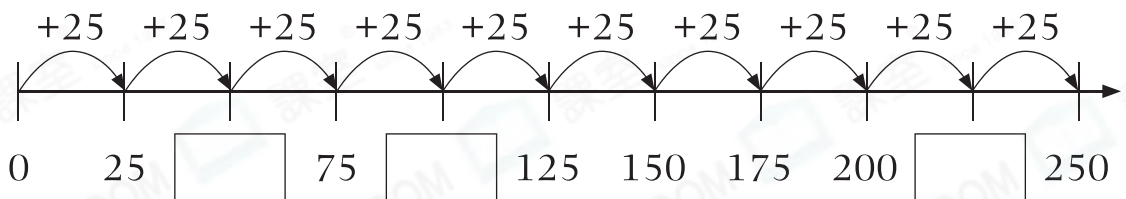
班別:

熱身練習

1. 在空格內填上適當的數。



2. (a) 在數線上填上適當的數。



(b) 觀察上面的數線，可發現每數4次每25個一數的數，便會增加_____。

3. (a) 2碟番茄共有_____顆。

(b) 7碟番茄共有_____顆。

(c) _____碟番茄共有200顆。



能力升級

4. 零食店有以下兩款巧克力出售。

A款



B款



(a) 張太太購買了5盒A款巧克力，共有_____顆巧克力。

(b) 王太太購買了數盒B款巧克力，與張太太購買的總數量相同，即王太太購買了_____盒B款巧克力。

5. 爸爸給三兄弟各買一輛玩具車，他共須付多少元？

答案：_____元

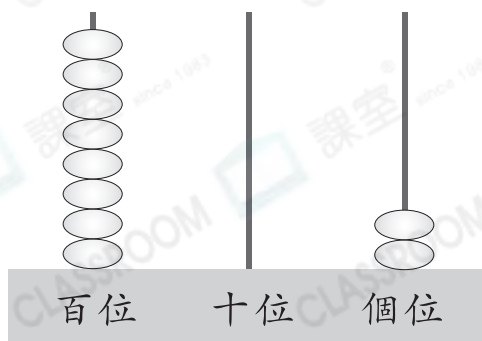


25元

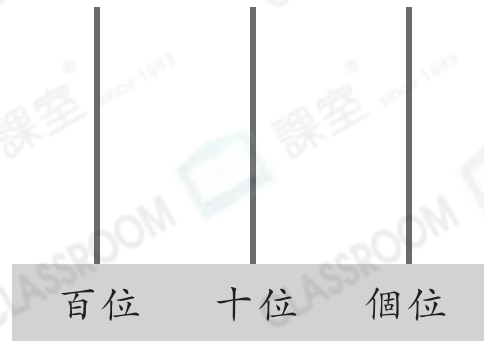
買二送一

進階題

6. 把圖一的算珠取出重新分配在算柱上，可表示出最大的每20個一數的數是什麼？把答案畫在圖二的算柱上。



圖一



圖二