

角

姓名:

日期:

班別:


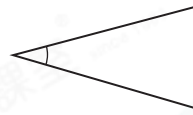
熱身練習

1. 右圖的角比直角* 大 / 小 (*圈出答案), 是一個_____角。

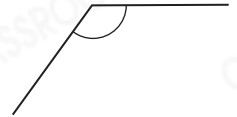
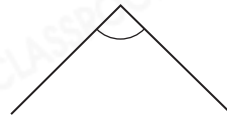
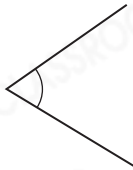


2. 根據指示, 圈出所有正確的答案。

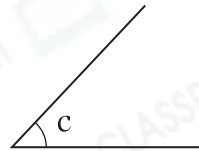
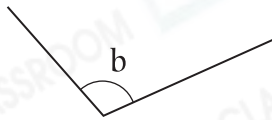
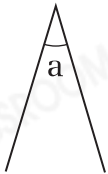
(a) 銳角



(b) 鈍角



3.



上圖中, 最大的銳角是角_____。

4. 依指示, 把所有對應的角塗上顏色。

(a) 鈍角



(b) 銳角



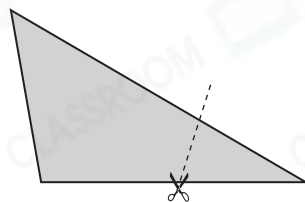


能力升級

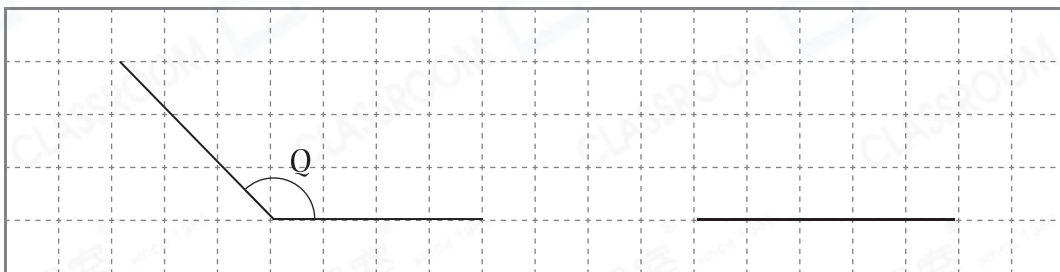
5. 下列哪一項描述是正確的？

- A. 所有的銳角一樣大。 ○ B. 銳角比直角大。
○ C. 鈍角比直角小。 ○ D. 鈍角都比銳角大。

6. 沿虛線從右面的手工紙剪去一個三角形，餘下的四邊形有一個 _____ 角和三個 _____ 角。



7. 在下圖中加畫一條直線，與原有的線構成一個比角Q小的鈍角。



8. 右圖中共可數出鈍角多少個？

答案： _____ 個



進階題

9. 哥哥在下午3時45分放學，15分鐘後回到家，他到家時，時鐘的時針和分針形成的角是一個* 銳角 / 直角 / 鈍角。（*圈出答案）



CLASSROOM Tips

先求回到家的時間，再利用鐘面找出時針和分針的位置。