



2 數數活動

日期

成績

◆ 每 20、25、50 和 100 個一數




鞏固訓練

按規律，填數字。

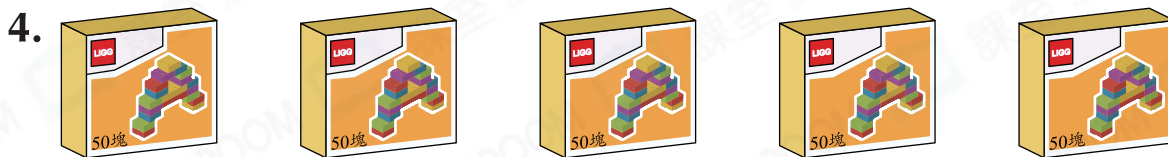
1.	100	200		400			700
----	-----	-----	--	-----	--	--	-----

2.				770	750	730
----	--	--	--	-----	-----	-----

數出下列各物件的總數量。



共有 _____ 瓶汽水。



共有 _____ 塊積木。



題型突破

5. 以下哪一項的結果不是 200？

A. 8 個 25。

B. 4 個 50。

C. 9 個 20 多 10。

D. 2 個 100。

6.

健康體育用品店
100元 現金券

(a) 每雙運動襪售 50 元，用一張現金券可買到 _____ 雙運動襪。

(b) 用兩張現金券另加 30 元剛好可買到一雙運動鞋，即一雙運動鞋售 _____ 元。

7. 每50枚印花可換領一塊肥皂，媽媽最多可換領肥皂多少塊？

- A. 4塊
- B. 5塊
- C. 6塊
- D. 7塊

我有338枚印花。



媽媽




8. 每杯咖啡售25元，買四杯送一杯。曉龍買了5杯咖啡，共須付多少元？

答案：_____元

CLASSROOM Educator

先找出須付多少杯咖啡的價錢。

9. 以下是美怡有的手工紙，每包手工紙的數量相同。



美怡共有60張手工紙，每包手工紙有_____張。

跨課題專區

10. 一盒明信片有25張。

(a) 一張明信片售_____元_____角。

(b) 郭老師買了5盒明信片，每20張分給一組學生，最多可分給_____組學生。



\$9.80

11.



知識重現

1下 立體圖形

角柱：無尖頂，不能滾動
角錐：有尖頂，不能滾動

(a) 上圖箱子的形狀是一個*角柱 / 角錐。(*圈出答案)

(b) 水果店原有一打蘋果，再購入4箱後，共有蘋果多少個？

答案：_____個