

# 評量

姓名：

日期：

班別：  ( )

總分：  /33

練習 1 - 8

限時：30分鐘

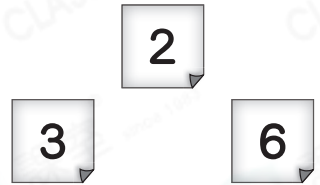
1. 在240這個數中，數字「2」是在\_\_\_\_\_位，它表示的數值是\_\_\_\_\_。

2. 用阿拉伯數字寫出「五百八十六」這個數。

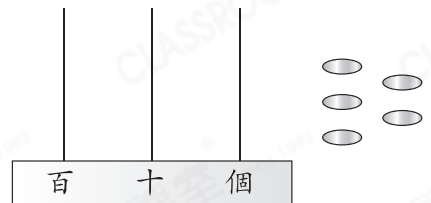
答案：\_\_\_\_\_

3. 用右面的數字卡組成三個大於「三百」的三位數，把它們由小至大排列出來。

答案：\_\_\_\_\_， \_\_\_\_\_， \_\_\_\_\_  
(最小) (最大)



4. 把5粒算珠放在算柱上，以表示最大的三位單數。把結果畫在右面的算柱上。



5.  $53 + \underline{\hspace{2cm}} = 24 + 53$

6.  $60 - 24 = \underline{\hspace{2cm}}$

7.  $237 + 405 + 263 = \underline{\hspace{2cm}}$

8.  $95 - 43 - 32 = \underline{\hspace{2cm}}$

9. 6個50少1是多少？

- A. 290       B. 299       C. 300       D. 301

10. 在空格內填上正確的數字。

$$\begin{array}{r} \text{(a)} \quad 3 \quad 6 \\ + \quad 5 \quad \square \\ \hline \square \quad 0 \end{array}$$

$$\begin{array}{r} \text{(b)} \quad 7 \quad \square \\ - \quad \square \quad 5 \\ \hline 4 \quad 8 \end{array}$$

11. 每盒拼圖有 20 塊，7 盒拼圖有多少塊？

- A. 160 塊      ○B. 140 塊      ○C. 120 塊      ○D. 100 塊

12. 佳琦有一盒萬字夾，用去 117 個後，還餘 143 個。這盒萬字夾原有 \_\_\_\_\_ 個。

13. 今天是詩琳的八歲生日，爸爸和媽媽帶她去觀看海豚表演，三人共須付多少元？(列式計算)

### 海豚表演

成人 每位 128 元

小童 每位 95 元  
(12 歲以下)

14.



(a) 4 袋代幣共有 \_\_\_\_\_ 枚。

(b) 若把代幣每 25 枚分成一份，一袋代幣共可分 \_\_\_\_\_ 份。

15. (a) 2B 班比 2A 班少捐贈 12 本，2B 班捐贈了 \_\_\_\_\_ 本圖書。

(b) 2B 班比 2C 班多捐贈 34 本，2C 班捐贈了 \_\_\_\_\_ 本圖書。



2A 班捐贈了  
84 本圖書。

老師

16.



28元



特價 64元

~~79元~~

俊偉有 97 元，他購買一雙襪子後，又以特價購買了一條短褲，他還剩多少元？(列式計算)

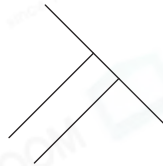
17. 觀察下列各圖，寫出所有代表答案的英文字母。



A



B



C



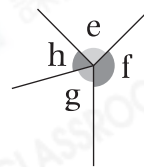
D

列出有垂直線的圖。

答案：\_\_\_\_\_

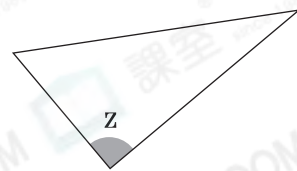
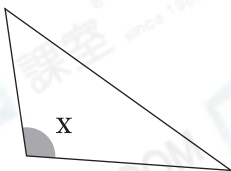
18. (a) 右圖中，角 \* e / f / g / h 是直角。

(\* 圈出答案)



(b) 角 \_\_\_\_\_ 是最大的銳角。

19.

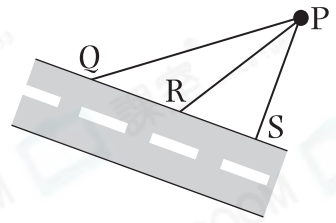


細閱上圖，把 x、y 和 z 三個角由大至小排列出來。

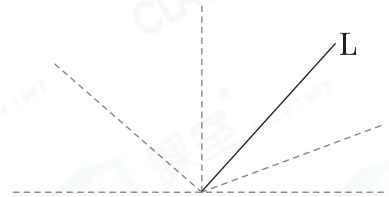
答案：\_\_\_\_\_，\_\_\_\_\_，\_\_\_\_\_

(最大)  (最小)


20. 右圖中，從店鋪P到馬路邊有PQ、PR和PS三條路，其中最短的路是\_\_\_\_\_。



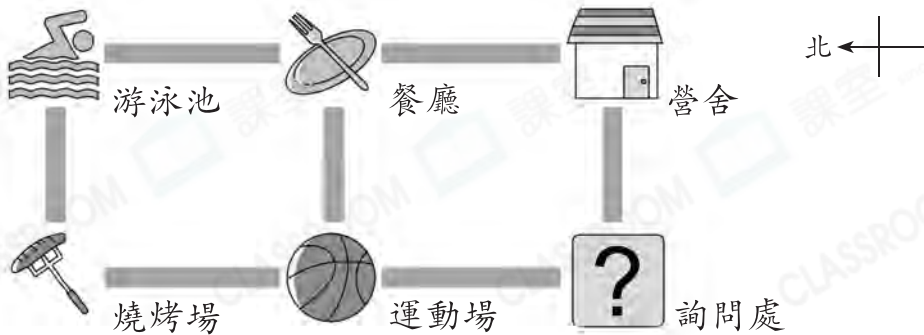
21. 在右圖中，沿着虛線畫出一條直線，使它與直線L形成一個鈍角。



22. 右圖有一條直線，在圖上畫出一條與它垂直的直線。



23. 下圖是度假村的平面圖。



- (a) 燒烤場在游泳池的\_\_\_\_\_方。
- (b) 振宇從運動場向東方走，可到達\_\_\_\_\_。
- (c) 文生從餐廳向\_\_\_\_\_方走，經過營舍，然後再向\_\_\_\_\_方走，便可到達詢問處。

—全卷完—