

# 考試

姓名：

日期：

班別：  ( )

總分：  /38

練習 1 - 15

限時：30分鐘

1. 把三個三位數由小至大排列如下：

271, , 350  
(最小) (最大)

空格裏的數可能是：

A. 217       B. 305       C. 530       D. 721

2. 在 399 這個數中，兩個數字「9」表示的數值相差多少？

答案：\_\_\_\_\_

3. 9 的 3 倍是\_\_\_\_\_。

4.  $8 \times 0 =$  \_\_\_\_\_

5.  $5 \times 10 =$  \_\_\_\_\_  $\times 5 =$  \_\_\_\_\_

6.  $371 + 245 =$  \_\_\_\_\_

7.  $94 -$  \_\_\_\_\_  $= 68$

8. 右圖共有\_\_\_\_\_粒魚蛋。



9. 芷君 有 7 枚郵票，志恆 有的郵票的數量是 芷君 的 2 倍，志恆 有 \_\_\_\_\_ 枚郵票。

10. 8 個 50 等於 \_\_\_\_\_ 個 100。

11. 哥哥寫了8張右面的揮春，共寫字多少個？(列式計算)



12. 瑞華每月遠足一次，他一年共遠足\_\_\_\_\_次。

13. 下列哪項不能表示共有香蕉多少隻？

A. 3的2倍

B.  $3 + 3$

C. 3與2的和

D.  $3 \times 2$



14. 農場有152隻母雞和43隻公雞，即共有\_\_\_\_\_隻雞。

15. 姨媽買10件西餅，共須付多少元？

答案：\_\_\_\_\_元



16. 文具店昨天上午售出156張賀卡，下午售出140張，今天比昨天多售出205張。文具店今天售出賀卡多少張？(列式計算)



17.  (a) 果汁店購入7盒梨，即共有\_\_\_\_\_個梨。

(b) 榨果汁用了兩打梨，餘下\_\_\_\_\_個。

18. 數學評估在  開始，限時 30 分鐘。

- (a) 評估的開始時間是\_\_\_\_\_午\_\_\_\_\_時\_\_\_\_\_分。
- (b) 評估的結束時間是\_\_\_\_\_午\_\_\_\_\_時\_\_\_\_\_分。


19. 以下是二月份的月曆。

二月						
日	一	二	三	四	五	六
	1	2	3	4	5	6
7	8	9	10	11	12	13
14	15	16	17	18	19	20
21	22	23	24	25	26	27
28	29					

- (a) 一月三十日是星期\_\_\_\_\_。
- (b) 欣晴的農曆新年假期在二月五日開始，二月十六日結束。她共放假\_\_\_\_\_天。
- (c) 該年是\* 平年 / 閏年 (\*圈出答案)，因為\_\_\_\_\_。

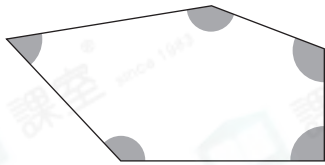
20. 以下是接駁巴士平日下午從長河居開出的時間表。

開出時間				
4:30	4:45	5:00	5:15	5:30
5:45	6:00	6:15	6:30	6:45
7:00	7:15	7:30	7:45	8:00



- (a) 接駁巴士每\_\_\_\_\_分鐘從長河居開出一班。
- (b) 最晚的一班車在下午\_\_\_\_\_時\_\_\_\_\_分開出。

21.



左圖中，

(a) 共有 \_\_\_\_\_ 個直角。

(b) 共有 \_\_\_\_\_ 個鈍角。

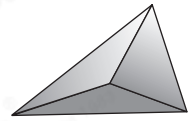
22. 右面的立體圖形是一個

A. 四角錐。

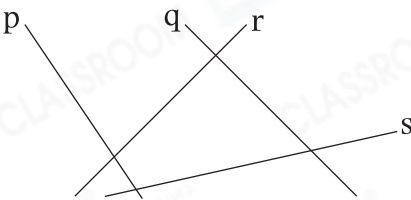
B. 四角柱。

C. 三角錐。

D. 三角柱。

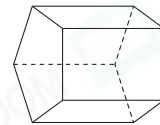


23.



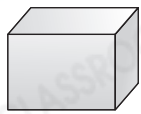
左圖中，直線 \_\_\_\_\_ 和 \_\_\_\_\_ 是一對垂直直線。

24. 右圖是一個 \_\_\_\_\_ ，  
它有 \_\_\_\_\_ 個面。



25. 頌賢 面向西方站立，右轉一個直角後，她面向 \_\_\_\_\_ 方。

26. 觀察下列的立體圖形，寫出所有代表答案的英文字母。



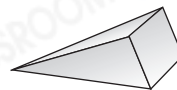
A




B



C



D



E

(a) 側面是四邊形的立體圖形： \_\_\_\_\_

(b) 有曲面的立體圖形： \_\_\_\_\_

(c) 只有一個底的立體圖形： \_\_\_\_\_

— 全卷完 —