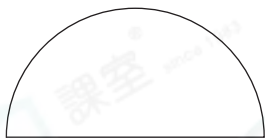




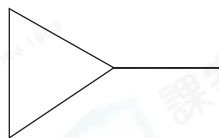
## 鞏固訓練

下列各圖中，有角的，在空格內加「✓」；沒有的，加「x」。

1.



2.

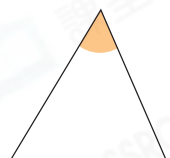


3.



寫出下列各角的名稱。

4.



\_\_\_\_\_ 角

5.



\_\_\_\_\_ 角

6.



\_\_\_\_\_ 角

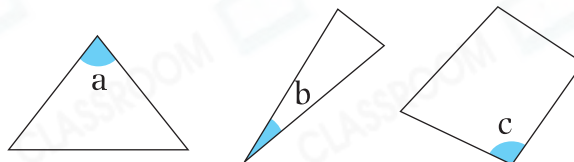
比較角的大小，寫出代表答案的英文字母。

7.



角 \_\_\_\_\_ 較小。

8.



角 \_\_\_\_\_ 最大。



## 題型突破

9. (a) 右圖中的鈍角是角 \* p / q / r / s 。

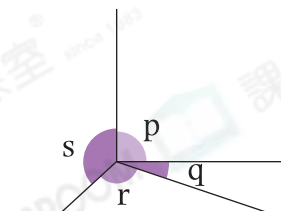
(\* 圈出所有答案)

(b) 把 p、q 和 r 三個角由小至大排列出來。

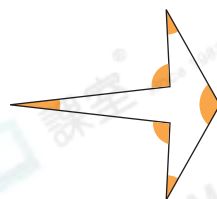
答案：角 \_\_\_\_\_，角 \_\_\_\_\_，角 \_\_\_\_\_

(最小)

(最大)



10. 右圖中，共有\_\_\_\_\_個銳角。



11. 觀察右圖，下列哪個/些描述是正確的？

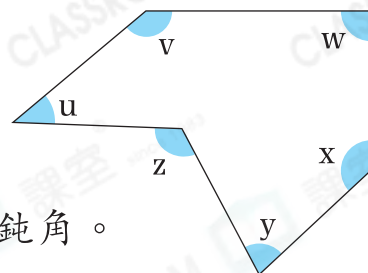
在橫線上寫出所有代表答案的英文字母。

A. 角u最小。

B. 角v比角y小。

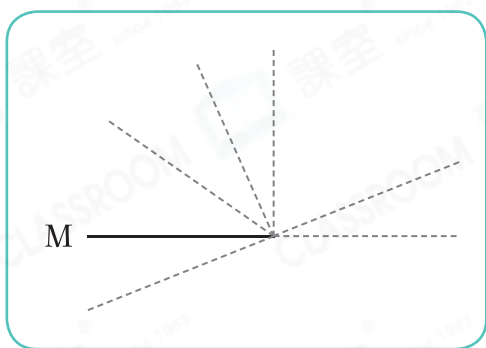
C. 角w是直角。

D. 角u和角z都是鈍角。

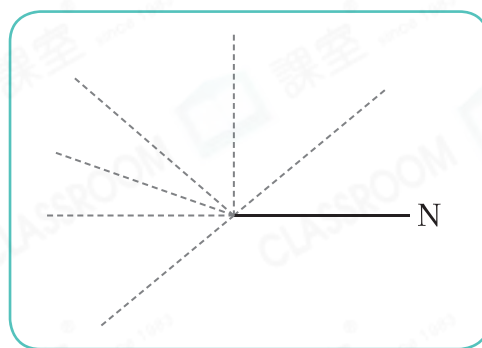


答案：\_\_\_\_\_

12. (a) 在圖一沿虛線畫出一條直線，與直線M形成一個直角。



圖一

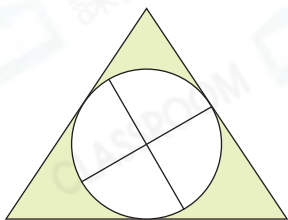


圖二

(b) 在圖二沿虛線畫出一條直線，與直線N形成一個銳角。

 跨課題專區

13.



(a) 左圖是由\* 直線 / 曲線 所組成。

(\* 圈出所有答案)

(b) 左圖中，共有\_\_\_\_\_個銳角。

14. (a) 右圖時鐘顯示的時間是\_\_\_\_\_時半。

(b) 最少再過多久，時針和分針才能形成一個直角？

答案：\_\_\_\_\_小時

