




鞏固訓練

下列各組線中，有垂直線的，在空格內加「✓」；沒有的，加「×」。













在下列各圖中，沿虛線畫出所有垂直線。



題型突破

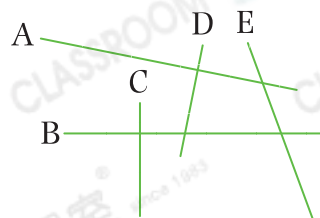
10. 下列哪個圖案包含垂直線？



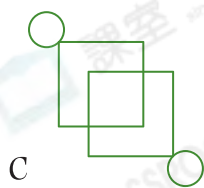
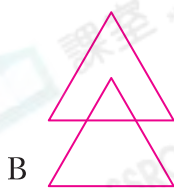
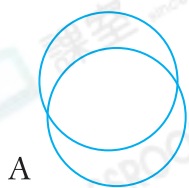
11. 右圖中，

(a) 直線 A 與直線 _____ 互相垂直。

(b) 直線 _____ 沒有與其他直線互相垂直。



12. 觀察下面的平面圖形，寫出所有代表答案的英文字母。

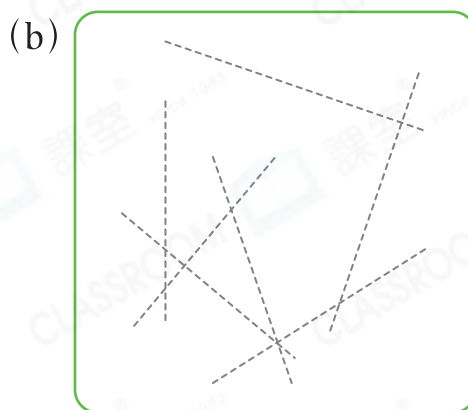
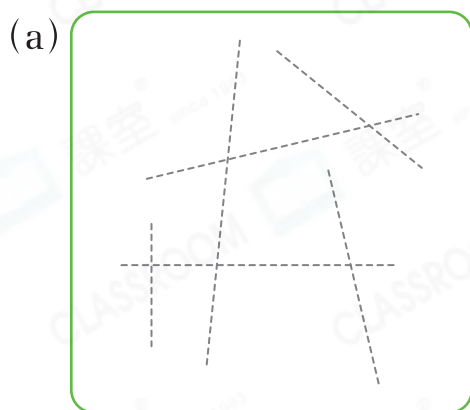


列出：

(a) 有曲線和垂直線的圖形：_____

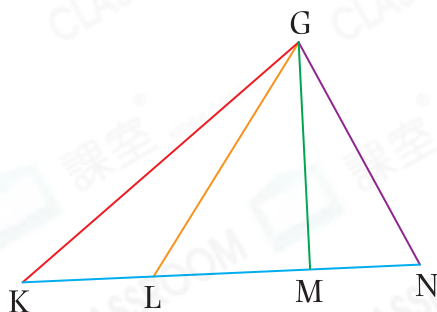
(b) 沒有垂直線的圖形：_____

13. 在下列各圖中沿虛線畫出所有垂直線。



跨課題專區

14.

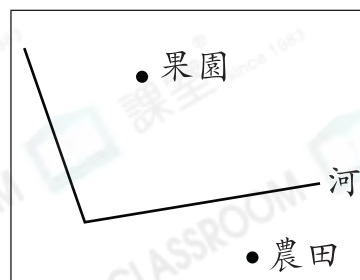


(a) 左圖中，線_____表示G點到直線KN的距離。

(b) G點到直線KN的距離是_____cm。

15. 李先生有一個果園和一塊農田。

(a) 李先生要從果園和農田分別向河邊修一條最短的路。在右圖畫出代表這兩條路的線。



(b) 李先生修這兩條路各用一個星期，即共用了_____天。