



8 米和厘米

日期

成績



鞏固訓練

圈出較合適的長度單位。

1.



(米 / 厘米)

2.



(米 / 厘米)

3.



(m / cm)

在橫線上填上答案。

4. 2 米 = _____ 厘米

5. 300cm = _____ m

6. 1 米 30 厘米 = _____ 厘米

7. 6m5cm = _____ cm



題型突破

8. 下列哪項不適合用「米」作為量度單位？

A. 滑鼠的闊度

B. 籃球架的高度

C. 巴士的長度

D. 兩座房子的距離

9. 在下列各項填上適當的長度單位。

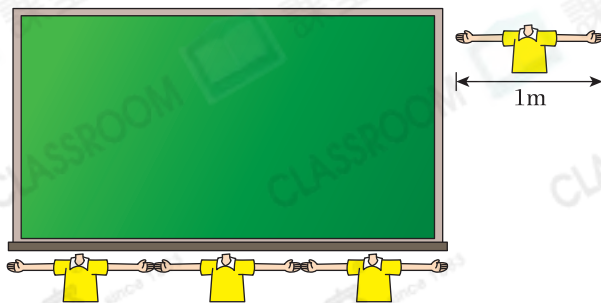
(a) 長頸鹿高約 5 _____。

(b) 課室門闊約 100 _____。

(c) 健明住在三樓，他家所在樓層距離地面約 6 _____。

10. 右圖中，黑板的長度約是

_____ cm。



11. 下列哪種工具最適合用來量度爸爸的腰圍？

○A.



○B.



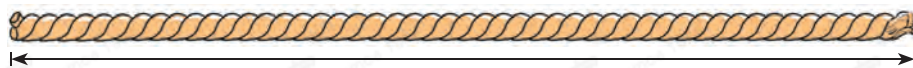
○C.



○D.

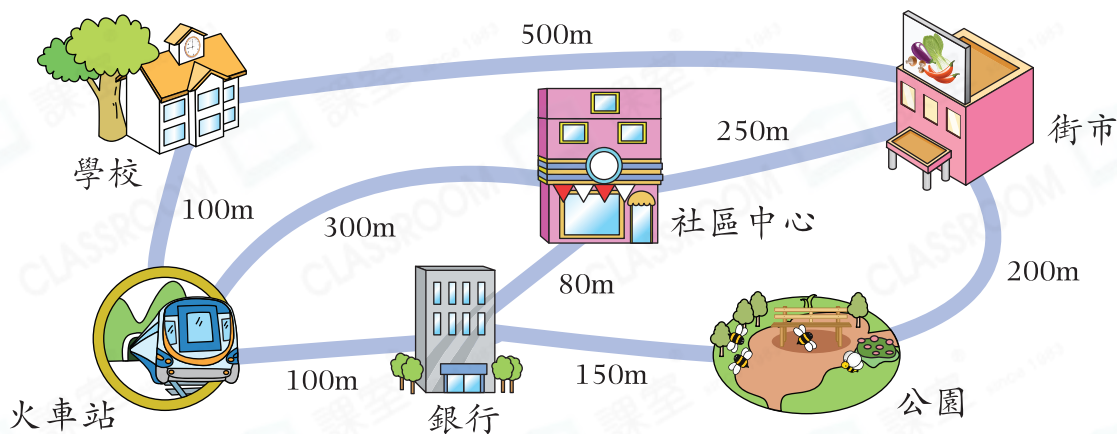


12. 用直尺量度下面的繩子。



上面的繩子長_____厘米，它的長度與一條長1米的繩子共長_____厘米。

13. 細閱下圖，回答下列問題。

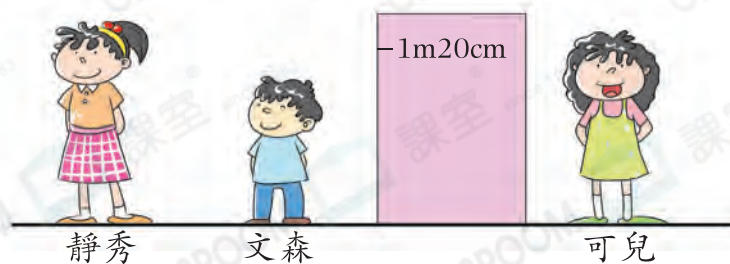


(a) 從學校經_____前往社區中心，需走400m。

(b) 從銀行前往街市，最短的路程是_____米。

跨課題專區

14. 某畫展規定，身高1m20cm或以下的小童可免費入場。



(a) 可免費入場的小童是_____。

(b) 每張小童票售98元，以上三人入場，共須付_____元。

前往P.23查看同類型易错题分析