



9 除法的認識

日期


成績



鞏固訓練


根據資料，列寫橫式。



(a) 有 12 個 ，平均分成 4 份，每份有 _____ 個。

(b) 橫式：_____ ÷ _____ = _____

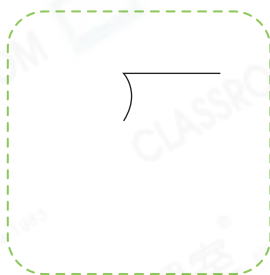


(a) 有 17 塊 ，每 6 塊分成 1 份，共可分成 _____ 份，餘下 _____ 塊。

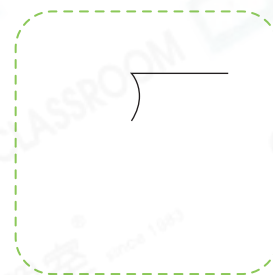
(b) 橫式：_____ ÷ _____ = _____ ... _____

根據橫式，寫出直式。

3. $21 \div 3 = 7$



4. $55 \div 9 = 6 \cdots 1$



題型突破

5. 用橫式寫出「56 除以 7 等於 8」。

答案：_____



把上面的壽司平均分給樂敏和四位朋友，每人可分得 _____ 件。

7. 細閱右面的算式，若描述正確，在空格內加上「✓」，若描述錯誤，加上「✗」。

$$30 \div 7 = 4 \cdots 2$$

答案

(a) 除數是 30。

(b) 商是 4 而餘數是 2。

8.




(a) 每個盒子可裝 3 枝蠟燭，以上蠟燭最多可包裝成 _____ 盒。

(b) 最少還需要 _____ 枝蠟燭，才可多包裝 1 盒。

9. 把右面的手工紙分給每組學生，每組須取 5 張。下列哪項是正確的？



- A. 共可分給 4 組學生。
- B. 共可分給 3 組學生。
- C. 餘下 1 張手工紙。
- D. 以上的都不正確。



跨課題專區

10.



(a) 遊客在嘉年華會排隊玩摩天輪， 離開後， 排第 _____。

(b) 排隊的人剛好坐滿 2 個摩天輪車箱，即每個摩天輪車箱可坐 _____ 人。