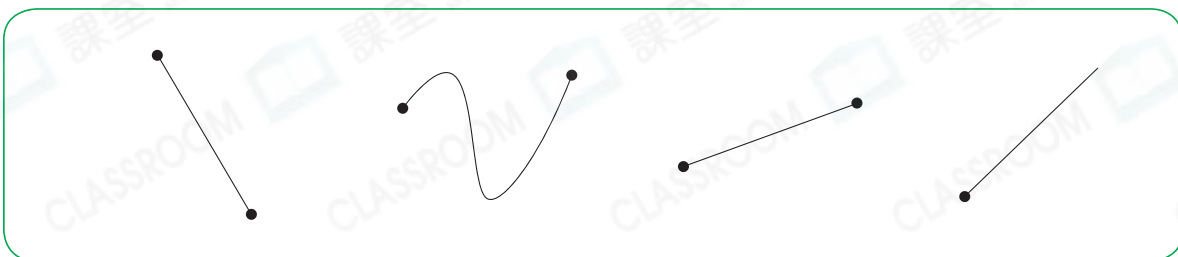




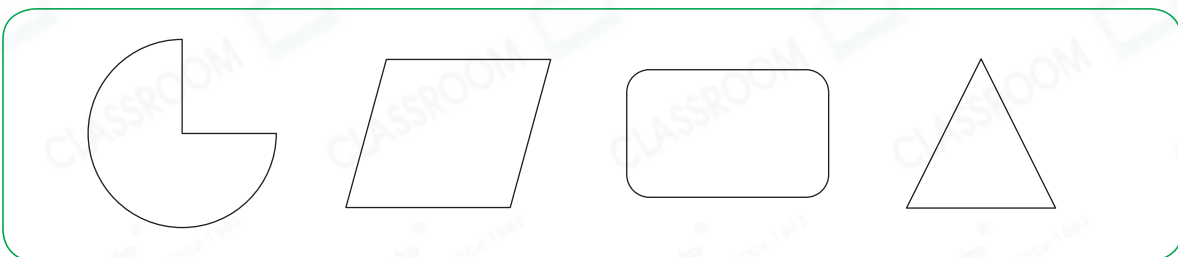
鞏固訓練

根據指示，圈出所有答案。

1. 線段



2. 只由線段圍成的圖形

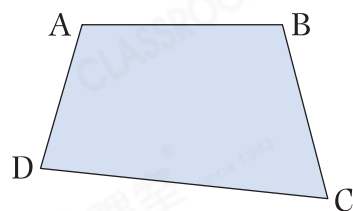


填一填，圈一圈。

3. 右圖由_____條線段圍成。

4. AB的對邊是_____。

5. (CD / DA)和BC是一組鄰邊。



題型突破

6. 下列哪一個圖形由最多線段組成？

○A.



○B.



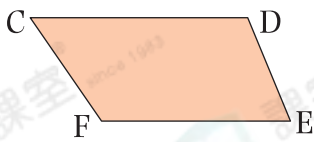
○C.



○D.

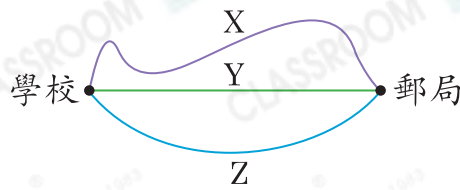


7.



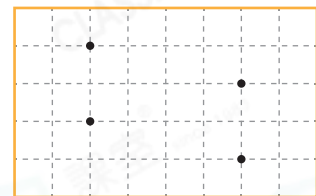
左圖中，* DE / EF / CF 是 CD 的鄰邊。(* 圈出所有答案)

8.

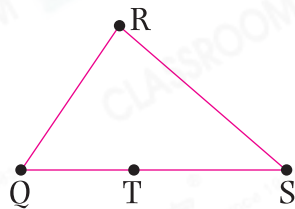


從學校到郵局有三條路線，若路線 Y 全程長 280m，路線 X 的長度可能是 * 250m / 280m / 300m (* 圈出答案)。

9. 右面的方格紙中有 4 個點，連接其中任意兩點，在右圖中畫出各點之間的所有線段。



10.



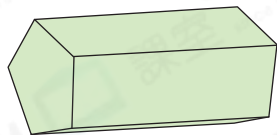
CLASSROOM Educator

每兩個點可連成一條線段，留意不要多數。

上圖中，共可數出 _____ 條不同的線段。

跨課題專區

11.



(a) 上面立體圖形的側面是什麼形狀？

答案：_____ 形

(b) 該側面有 _____ 組對邊和 _____ 組鄰邊。



知識重現

2上 立體圖形

角柱：側面是四邊形
角錐：側面是三角形

12.



(a) 分別用一條直線和一條曲線，把 M 點和 N 點連起來。

(b) M、N 兩點之間最短的距離是 _____ cm。