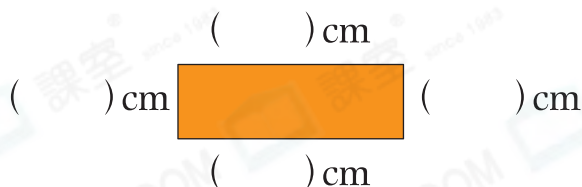




## 鞏固訓練

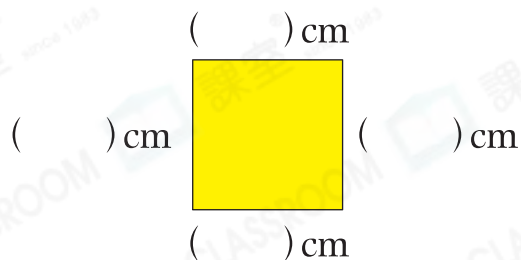
量度下圖各邊的長度，並寫出各圖的名稱。

1.



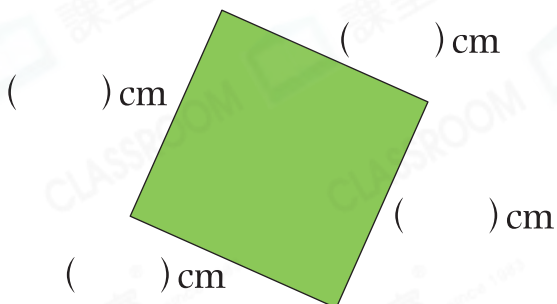
\_\_\_\_\_ 形

2.



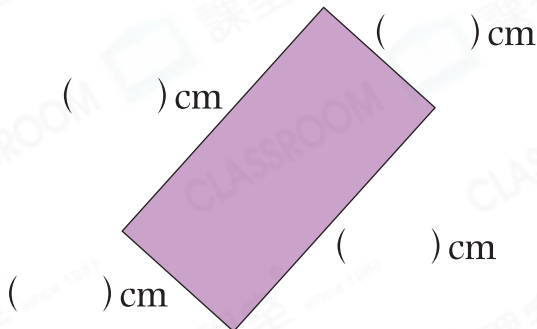
\_\_\_\_\_ 形

3.



\_\_\_\_\_ 形

4.



\_\_\_\_\_ 形

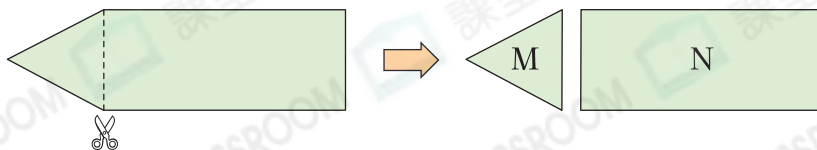


## 題型突破

5. 長方形和正方形有以下哪種共同性質？

- A. 四邊長度相等
- B. 對邊長度不相等
- C. 只有2個直角
- D. 四個角都是直角

6.

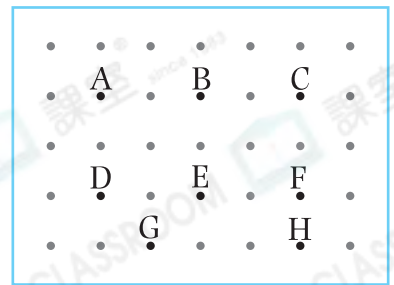


沿着虛線把上面的五邊形剪開後，可得到兩個圖形，圖形N是一個 \_\_\_\_\_ 形。

7. 啟聰在釘板上用橡皮圈將B、C、E和F四點圍起來。

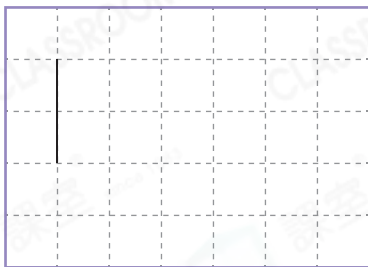
(a) 這是一個\_\_\_\_\_形。

(b) 啟聰想圍出一個長方形，他應把B點移往\_\_\_\_\_點，E點移往\_\_\_\_\_點。

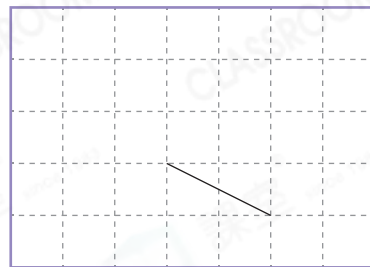


8. 在下圖中加畫三條線段，與原有的線段組成指定圖形。

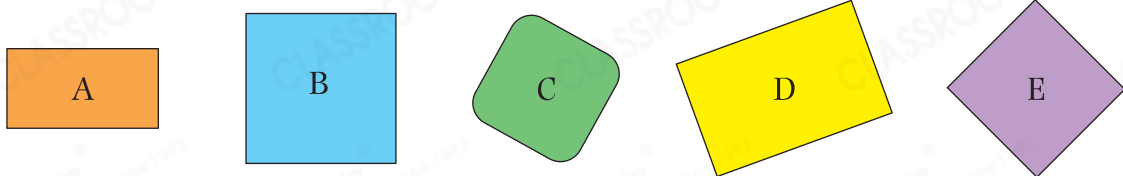
(a) 長方形



(b) 正方形



9.



(a) 哪個 / 些平面圖形是正方形？(寫出所有代表答案的英文字母)

答案：\_\_\_\_\_

(b) 上圖中有兩組對邊長度分別相等，但**不是**四邊長度相等的四邊形是\*\_\_\_\_\_和\_\_\_\_\_。( \* 寫出代表答案的英文字母 ) 它們是\_\_\_\_\_形。

### 跨課題專區

10. 倩明原有2枝竹籤A和1枝竹籤B。每枝竹籤A售5角，每枝竹籤B售3角。

(a) 如果倩明要製作一個長方形，她最少要多買\_\_\_\_\_枝竹籤\* A / B。( \* 圈出答案)

(b) 如果倩明要製作一個正方形，她購買竹籤最少須付\_\_\_\_\_角。



前往P.44 查看同類型易錯題分析